

2025 年度

和歌山信愛高等学校  
入学試験

社 会

(40 分 75 点)

受験上の注意

1. 開始のチャイムが鳴ったら、問題冊子のすべてのページがそろっていることを確認して、解答を始めなさい。  
問題冊子は、1 ページから 20 ページまであります。
2. 受験番号は、問題冊子と解答用紙の両方に記入しなさい。
3. 解答は、すべて解答用紙に記入しなさい。
4. 終了のチャイムが鳴ったら、解答をやめなさい。  
解答用紙は、問題冊子の上に開いたまま裏返して置きなさい。

受験番号

(余白)

(余白)

問題は次のページから始まります。

【1】世界地理に関して、次の地図を見て、以下の各問いに答えなさい。



問1 地図中のあの砂漠、いの山脈の名称をそれぞれ答えなさい。

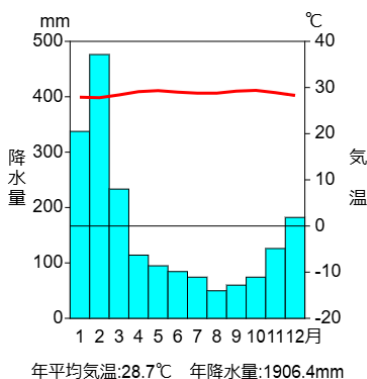
問2 次のア～エは、地図中 A～J のいずれかの国について述べた文章である。どの国について述べているか、地図中 A～J の中からそれぞれ一つずつ選び、記号で答えなさい。

- ア 英語が公用語である。移民が多く、様々な文化を尊重しあう多文化社会となっている。鉄鉱石やボーキサイトなどの鉱山資源が豊富で、牛肉が日本に多く輸出されている。
- イ パンパとよばれる草原が広がる。スペイン語が公用語であり、多くの人がカトリックを信仰している。2022年サッカーワールドカップで優勝した。
- ウ 英語が公用語である。比較的温暖な西岸海洋性気候に区分される。かつて世界中に多くの植民地を有しており、ニュージーランドなどの国旗にそのなごりがみられる。
- エ ギニア湾に面しており、海岸部は熱帯性気候、内陸部はサバナ気候に属している。チョコレートやココアの原料となるカカオ豆の世界有数の生産国である。

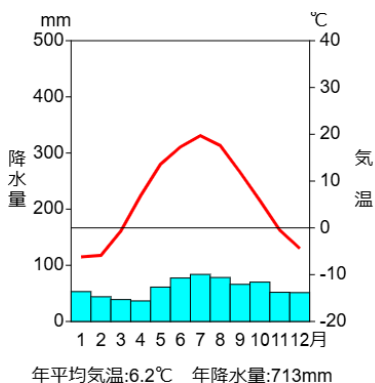
問3 地図中●で示した a の地域の伝統的な家屋について述べた文として正しいものを、次のア～エの中から一つ選び、記号で答えなさい。また、a の地域の雨温図にあてはまるものを、下の①～④の中から一つ選び、記号で答えなさい。

- ア 日干しれんが や石でつくられている。
- イ 窓が小さく、よろい戸がつけられている。
- ウ 永久凍土対策のため高床になっている。
- エ 柱は木や竹を使い、屋根は木の葉でできている。

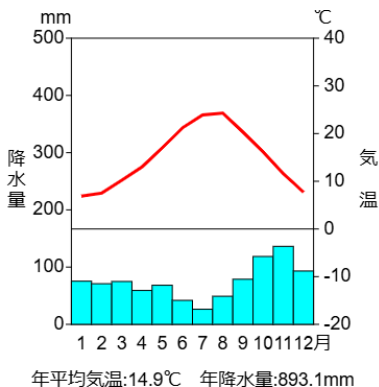
①



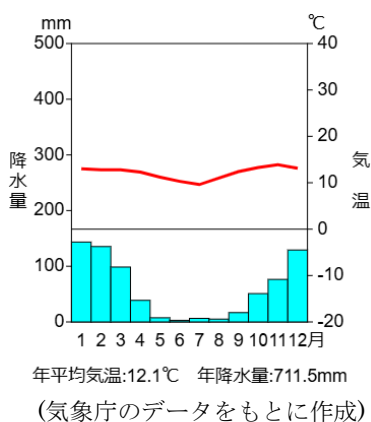
②



③



④



問4 地図中Hの国について述べた文として誤っているものを、次のア～エの中から一つ選び、記号で答えなさい。

- ア サンフランシスコ近郊のシリコンバレーには、Google や Apple など ICT 関連企業が集中している。
- イ H 国・カナダ・メキシコの 3 か国は、北米自由貿易協定(NAFTA)を結んでいた。
- ウ 西経 100 度付近から東側では放牧が、西側では とうもろこし の栽培が盛んである。
- エ 近年、ヒスパニックとよばれるスペイン語を話す移民が増え、経済を支えている。

問5 地図中Iの国で さとうきび の生産が増えている理由を答えなさい。

問6 次の表は、農産物の輸出量上位5か国をまとめたものである。表中の①～③にあてはまる農産物はどれか、下のア～カの中から一つ選び、記号で答えなさい。ただし、表中のアルファベットは地図中の国を示すアルファベットと一致する。

	①	②	③
1位	H	ロシア	F
2位	I	H	ケニア
3位	J	カナダ	スリランカ
4位	パラグアイ	B	E
5位	カナダ	G	J

(2019/20年版「世界国勢図会」)

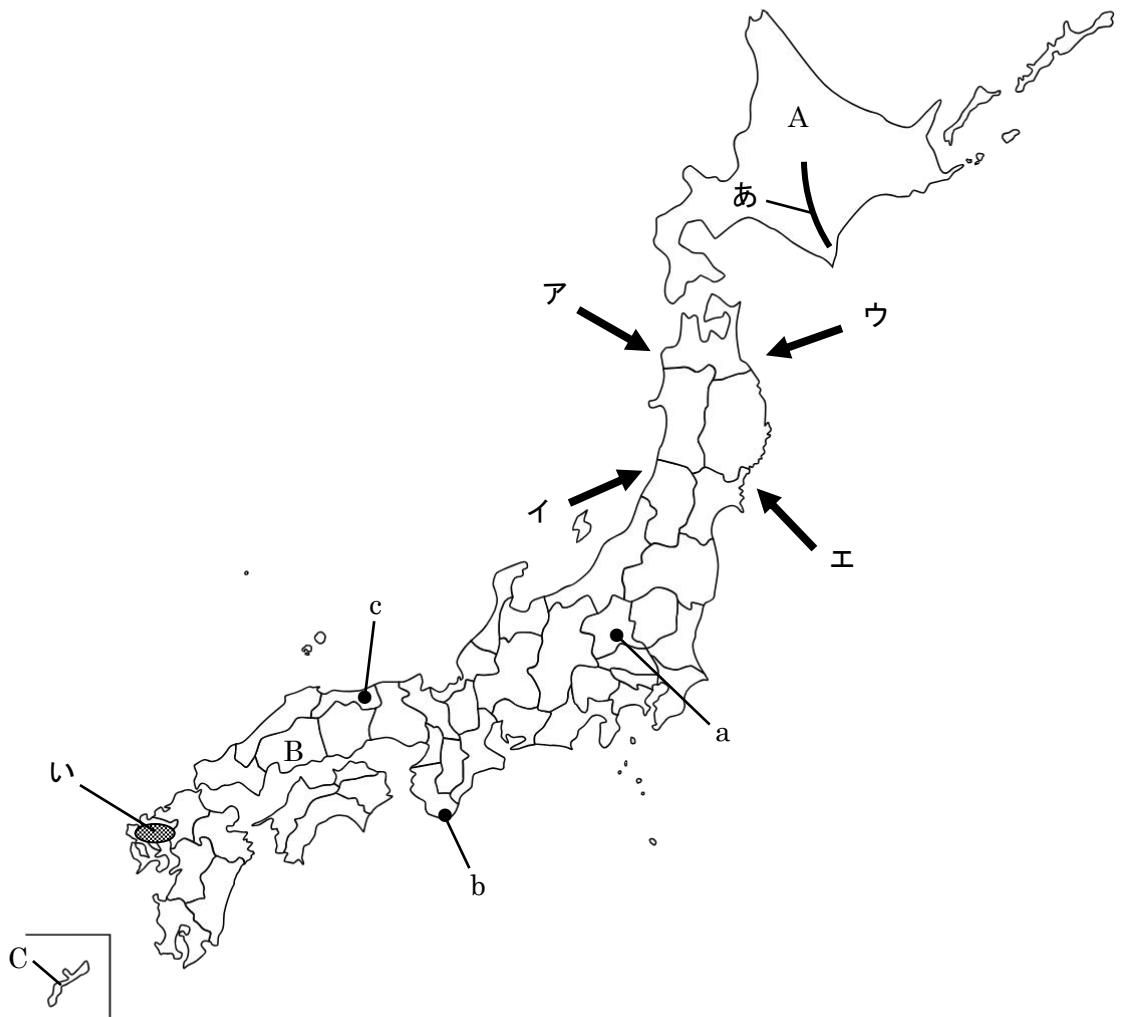
- |   |      |      |      |   |      |      |      |
|---|------|------|------|---|------|------|------|
| ア | ①－茶  | ②－小麦 | ③－大豆 | イ | ①－小麦 | ②－茶  | ③－大豆 |
| ウ | ①－茶  | ②－大豆 | ③－小麦 | エ | ①－小麦 | ②－大豆 | ③－茶  |
| オ | ①－大豆 | ②－茶  | ③－小麦 | カ | ①－大豆 | ②－小麦 | ③－茶  |

問7 下の図は、国際連合の紋章であり、北極点からの距離と方位が正しく表された地図を図式化して描かれている。図中Xが示す大陸名を答えなさい。



問8 3月5日に和歌山信愛高校の生徒たちは修学旅行に出発した。22時25分に関西国際空港を出発し、一度フィンランドで乗りつぎをし、18時間20分かけてイタリアに到着した。信愛生がイタリアに到着したのは現地時間の何月何日何時何分になるか、答えなさい。ただし、イタリアの標準時子午線は東経15度とする。

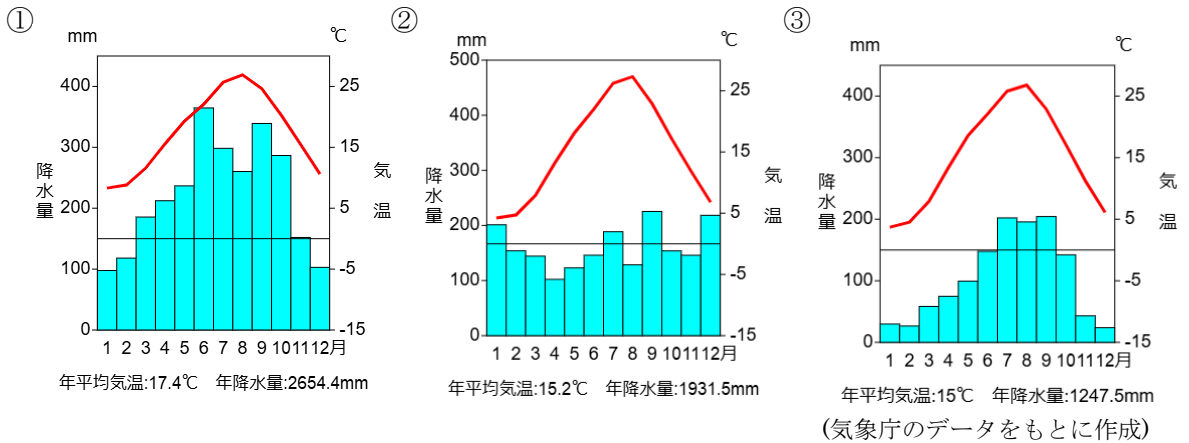
【2】日本地理に関して，次の地図を見て，以下の各問いに答えなさい。



問1 地図中のあの山脈，いの平野の名称をそれぞれ答えなさい。

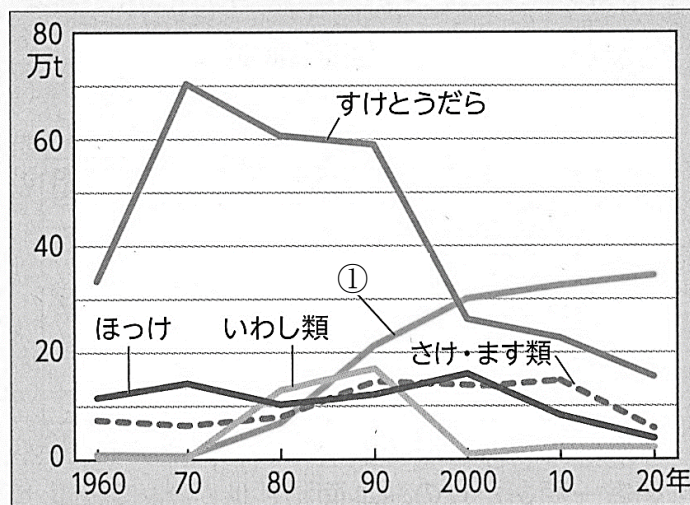
問2 やませ とよばれる冷たくしめった風の向きとして正しいものを，地図中のア～エの中から一つ選び，記号で答えなさい。

問3 次の雨温図①～③は、地図中●で示した a～c のいずれかの都市のものである。雨温図①～③と地図中 a～c の都市の組み合わせとして正しいものを、下のア～カの中から一つ選び、記号で答えなさい。



	ア	イ	ウ	エ	オ	カ
①	c	c	b	b	a	a
②	b	a	a	c	c	b
③	a	b	c	a	b	c

問4 次のグラフは、地図中Aの都道府県の漁獲量の変化を表している。グラフ中の①は近年、養殖により漁獲量が増えている。①にあてはまる海産物は何か、下のア～エの中から一つ選び、記号で答えなさい。



(農林水産省資料より作成)

ア にしん      イ ほたて      ウ かに      エ さんま



問5 地図中 B の都道府県には、次の写真のような地形がみられる。このような地形を何と  
いうか、答えなさい。



問6 次の X～Z は地図中 C の都道府県の伝統的な家屋に施されている工夫について述べた文  
である。その正誤の組み合わせとして正しいものを、下のア～クの中から一つ選び、記号  
で答えなさい。

X 屋根瓦をしっくいで固めている。

Y 石垣のへいで囲まれている。

Z 窓が小さく作られている。

ア X－正 Y－正 Z－正

イ X－正 Y－正 Z－誤

ウ X－正 Y－誤 Z－正

エ X－誤 Y－正 Z－正

オ X－正 Y－誤 Z－誤

カ X－誤 Y－誤 Z－正

キ X－誤 Y－正 Z－誤

ク X－誤 Y－誤 Z－誤

問7 本州と四国をつなぐ交通網に関して、以下の各問いに答えなさい。

(1) 次の文章中の空欄  ・  にあてはまる語句をそれぞれ答えなさい。

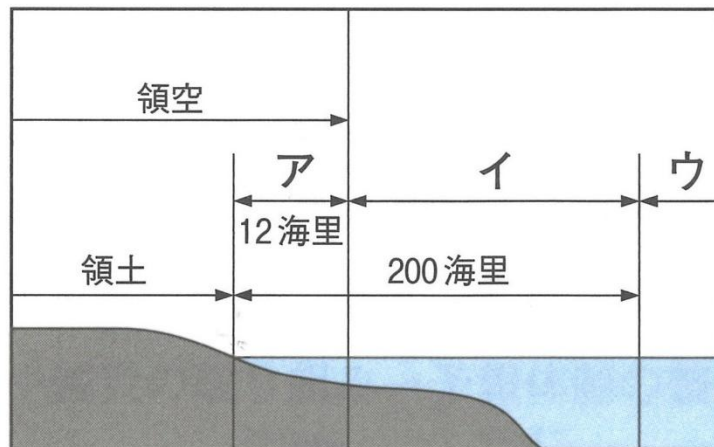
四国地方と近畿地方とは、1985 年の大鳴門橋の開通で結ばれ、1998 年の明石海峡大橋の  
開通で本州に直接つながった。これにより、 県鳴門市と兵庫県神戸市との移動が  
約 1 時間 30 分になり、二つの地方を観光や買い物で行き来する人が増えた。そのほか本州と  
四国を結ぶルートには、岡山県と香川県を結ぶ、広島県と愛媛県を結ぶしまなみ海道が  
あり、本州と四国の間の移動時間が大幅に短縮された。

(2) 交通網の整備により、地方都市から大都市への買い物客が増えたり、地方都市の支店が  
閉鎖されたりする現象を何とよぶか、答えなさい。

問8 日本の農業について述べた文として誤っているものを、次のア～エの中から一つ選び、記号で答えなさい。

- ア 甲府盆地では、水はけのよい扇状地の特性を活かし、ぶどうなどの果樹栽培が盛んにおこなわれている。
- イ 愛知県田原市では、用水路が整備されたことにより、菊をはじめとする施設園芸農業がおこなわれるようになった。
- ウ 群馬県嬭恋村は、夏でも涼しい高原の気候を活かし、日本有数のりんごの産地となっている。
- エ 高知平野では、温暖な気候を利用し、ビニールハウスを利用した なす やピーマンなどの促成栽培がおこなわれている。

問9 次の図は、領域にかかわる区分を表した模式図である。領海を示しているものを、図中ア～ウの中から一つ選び、記号で答えなさい。



(海上保安庁資料ほかより)

問題は次のページに続きます。

【3】 次の(A)～(E)の人物の自己紹介文を読んで、以下の各問いに答えなさい。

(A)



私は、日本の歴史上初の女性天皇とされる、第33代天皇です。このころ有力豪族たちが争いを繰り返し、蘇我氏が勢力を強めていました。政治は おいの a 聖徳太子(厩戸皇子) と蘇我馬子と協力して行いました。聖徳太子(厩戸皇子)の指導のもと、冠位十二階や十七条の憲法を制定し、中央集権国家の体制を強化しました。

問1 この(A)の天皇の名前を答えなさい。

問2 下線部 a について、この人物の時代の作品として正しいものを、次のア～エの中から一つ選び、記号で答えなさい。

ア



平等院鳳凰堂釈迦如来像

イ



興福寺阿修羅像

ウ



東大寺南大門金剛力士像

エ



広隆寺弥勒菩薩像

(B)



私は、日本の飛鳥時代の第 38 代天皇です。

私は、中臣鎌足らと協力して蘇我氏を打倒し、大化の改新を断行しました。大化の改新は、中央集権国家体制の確立を目指した政治改革で、土地制度、税制、戸籍制度などの改革が行われました。これらの改革は、日本の歴史において大きな転換点となりました。

問 3 この(B)の天皇の名前を答えなさい。

問 4 この(B)の天皇のあとつぎをめぐり 672 年におこった戦いを何というか、答えなさい。

(C)



私は、日本の奈良時代の第 45 代天皇です。

私は、仏教の発展に力を入れ、東大寺の大仏を建立しました。また、律令制度の整備、農業の政策にも力を入れ、墾田永年私財法を制定しました。文化の発展にも努め、平和な社会を築くために様々な政策を実施しました。正倉院には私が使っていた品々が多く納められました。

問 5 この(C)の天皇のころに発展した仏教について、以下の各問いに答えなさい。

- (1) 右の写真の人物は、日本に仏教の教えを広めるために多くの困難を乗り越え渡来し、日本の仏教文化の発展に大きく貢献した。この人物が建てた寺院として正しいものを、次のア～エの中から一つ選び、記号で答えなさい。

- ア 法隆寺                      イ 延暦寺  
ウ 唐招提寺                  エ 中尊寺



- (2) このころの仏教について述べた文として正しいものを、次のア～エの中から一つ選び、記号で答えなさい。

- ア 末法思想を背景に、念仏を唱えて阿弥陀仏にすがり、死後に極楽浄土に生まれ変われることを願う浄土信仰が広まった。  
イ 仏教の力で国を守り不安を取り除こうと、国ごとに国分寺・国分尼寺が建てられた。  
ウ 座禅によって自分の力でさとりを開こうとする禅宗が中国から伝えられ、武士に広く受け入れられた。  
エ 中国で密教を学んだ空海によって真言宗が始められ、高野山に金剛峯寺がつくられた。

(D)



私は、日本の平安時代後期の第 72 代天皇です。  
私は、位をゆずった後も、上皇として政治の実権を握り、院政と呼ばれる新しい政治体制を確立しました。院政とは、天皇が政治に関与せず、上皇が政治を主導する体制のことです。43 年間ものあいだ、b 上皇として院政を行い、当時の政治に大きな影響を与えました。また院政を通じて、藤原氏を抑え、朝廷の権威を回復しました。

問 6 この(D)の天皇の名前を答えなさい。

問 7 下線部 b に関連して、このころの世界の動きを述べた文として正しいものを、次のア～エの中から一つ選び、記号で答えなさい。

- ア ヨーロッパで十字軍の遠征がはじまる。
- イ ムハンマドがイスラム教をおこす。
- ウ 李成桂が朝鮮国を建てる。
- エ チンギス=ハンが現れて、モンゴル帝国を築く。

(E)



私は、日本の鎌倉時代後期から南北朝時代初期にかけての第 96 代天皇です。1333 年に鎌倉幕府が滅亡した後、私は c 京都に戻り政治を行いました。しかし、足利尊氏らと対立し、再び戦乱状態におちいりました。その後、足利尊氏が新たな天皇を立て、d 京都に幕府を開きました。私は吉野に逃れ、新たに朝廷を立てました。これにより二つの朝廷が生まれ、その後約 60 年間南北朝時代が続きました。

問 8 下線部 c について、この(E)の天皇が行った政治を何というか答えなさい。

問 9 下線部 d について、次の X・Y は、この幕府の成立から滅亡までの期間の社会の様子を述べた文である。その正誤の組み合わせとして正しいものを、下のア～エの中から一つ選び、記号で答えなさい。

- X 宋や明から輸入された銭が使用されることが多くなり、定期市の日数も増えた。
- Y 寺から武士へ広がった寝殿造の住宅では、床の間が設けられ、水墨画や花が飾られた。

- ア X－正 Y－正
- イ X－正 Y－誤
- ウ X－誤 Y－正
- エ X－誤 Y－誤

【4】 次の年表は、日本で発生した主な地震の発生年をまとめたものである。これを見て、以下の各問いに答えなさい。

西 暦	地 震
1605 年(慶長 9)	慶長地震
1707 年(宝永 4)	宝永地震…A
1854 年(安政元)	安政東海地震
1923 年(大正 12)	関東大震災
1946 年(昭和 21)	南海道地震
1995 年(平成 7)	阪神・淡路大震災
2011 年(平成 23)	東日本大震災
2024 年(令和 6)	能登半島地震

(国立国会図書館東日本大震災アーカイブ 地震年表より作成)  
 ※発生日時、地震名は、国立国会図書館典拠データ採録の件名、  
 気象庁ウェブサイトで公開されている「過去の地震津波災害」及び  
 「気象庁が名称を定めた気象・地震・火山現象一覧」による。

問 1 次のできごとは上の年表中のどの時期におこったできごとか。あてはまる時期として正しいものを、年表中の a～gの中からそれぞれ一つずつ選び、記号で答えなさい。

- (1) 世界恐慌がおこる。
- (2) アメリカで同時多発テロがおこる。

問 2 年表中 A の前後でおこった江戸での大火事、富士山の噴火などで幕府財政が悪化した。1716年に紀伊藩主から将軍になった人物が行った改革の内容として誤っているものを、次のア～エの中から一つ選び、記号で答えなさい。

- |             |            |
|-------------|------------|
| ア 株仲間の解散    | イ 上げ米の制の実施 |
| ウ 公事方御定書の制定 | エ 目安箱の設置   |

問3 次の作品Ⅰ・Ⅱについて、以下の各問いに答えなさい。

Ⅰ



Ⅱ

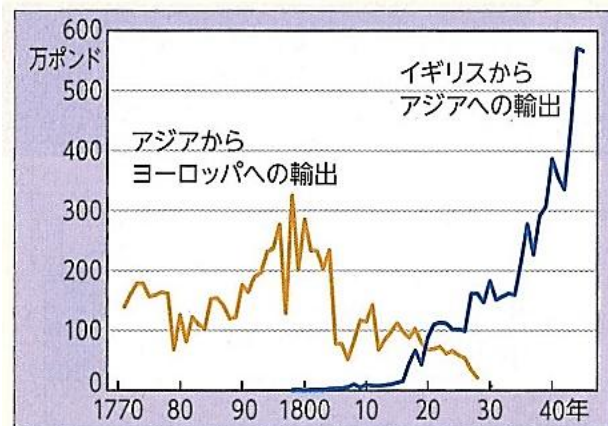


(1) 作品Ⅰ・Ⅱの作者として正しいものを、次のア～エの中からそれぞれ一つずつ選び、記号で答えなさい。

ア 尾形光琳      イ 喜多川歌麿      ウ 葛飾北斎      エ 菱川師宣

(2) 作品Ⅰ・Ⅱが描かれた時期として正しいものを、年表中の a～g の中からそれぞれ一つずつ選び、記号で答えなさい。

問4 年表中 b の時期に、イギリスは、戦争と征服によって、インドの内陸に支配地を大きく広げていった。次のグラフは、アジアとイギリスのある商品の輸出額をあらわしている。この商品として正しいものを、下のア～エの中から一つ選び、記号で答えなさい。



(松井透「世界市場の形成」)

ア 茶      イ 綿織物      ウ 陶磁器      エ 生糸



問 5 次の資料は、年表中 b の時期に、アメリカで出された独立宣言の一部抜粋である。この宣言の中に書かれている「すべての人間は…諸権利を与えられている。」という言葉は、現代社会においてどのような意味を持つか、最もふさわしいものを、下のア～エの中から一つ選び、記号で答えなさい。

アメリカ独立宣言 (1776年)

われわれは以下の真理は自明のことと考える。

まず、すべての人間は平等につくられており、神よりうばいがたい諸権利を与えられている。それらのなかには生命、自由、幸福の追求の権利がある。

また、これらの権利を保障するために、人間の間には政府が組織されるものであり、その正当な権力は人々の同意に由来するものである。

〈一部要約〉

- ア 人種差別を正当化する。
- イ 女性の権利を制限する。
- ウ 基本的人権を認める。
- エ 国の安全保障を優先する。

問 6 次の絵は、年表中 c の時期におこった戦争後の日比谷焼き打ち事件の様子を描いたものである。この戦争の講和条約の内容として誤っているものを、下のア～エの中から一つ選び、記号で答えなさい。



- ア 韓国に対する日本の優越権を認める。
- イ 遼東半島・台湾・澎湖諸島を日本にゆずりわたす。
- ウ 旅順・大連の租借権と長春以南の鉄道利権を日本にゆずりわたす。
- エ 北緯 50 度以南の樺太（サハリン）を日本にゆずりわたす。

問 7 年表中 d の時期におこった太平洋戦争中には、次の絵のような桃太郎が動物たちとともにアメリカ兵と戦う内容のアニメが作られ、当時の子どもたちはそうしたものに囲まれて育った。子どもたちの育ったこの時期におきた、次の A～D のできごとを古い順に並べかえなさい。

- A 原子爆弾の投下
- B ポツダム宣言の受け入れ
- C 真珠湾攻撃
- D ヤルタ会談

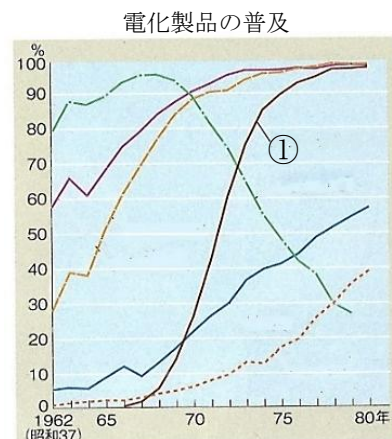


問 8 年表中 e の時期について述べた次の文章中の空欄 **X**～**Z** に入る語句・人名の組み合わせとして正しいものを、下の **ア～カ** の中から一つ選び、記号で答えなさい。

1960 年に **X** 内閣が「所得倍増」政策をうち出すと、人々の関心は経済に向かった。また、1964 年に東京オリンピックが開かれ、それに合わせて各地に高速道路がつくられ、東海道新幹線も開通した。

高度経済成長が進む中で、物資が充実してくるようになると、人々の生活様式が大きく変化していった。「新三種の神器」とよばれた家庭電化製品の 1 つである、グラフ中の①が示す **Y** が普及した。また、文化面でも日本の漫画・アニメの基礎を築いた手塚治虫や、『伊豆の踊子』『雪国』などの小説が世界的に評価されてノーベル文学賞を受賞した **Z** という作家も現れた。

- |   |        |          |         |
|---|--------|----------|---------|
| ア | X-岸 信介 | Y-電気冷蔵庫  | Z-大江健三郎 |
| イ | X-岸 信介 | Y-カラーテレビ | Z-川端康成  |
| ウ | X-池田勇人 | Y-電気洗濯機  | Z-湯川秀樹  |
| エ | X-池田勇人 | Y-カラーテレビ | Z-川端康成  |
| オ | X-佐藤栄作 | Y-電気洗濯機  | Z-湯川秀樹  |
| カ | X-佐藤栄作 | Y-電気冷蔵庫  | Z-大江健三郎 |



(「日本統計年鑑」ほか)

問題は次のページに続きます。

【5】和歌山信愛高校2年の愛子さんは、昨年イタリアへ修学旅行に行きました。次の文章は旅行後の、愛子さんとイタリアからの留学生のマリアさんの会話です。これを読んで、以下の各問いに答えなさい。

愛子：イタリアはとても素敵だったわよ。歴史ある建物や教会があり、パスタもおいしかったわ。旅行前にもっとイタリアのことをしっかり勉強しておけばよかったわ。

マリア：イタリア1日目はヴァチカンに行ったのね。

愛子：そう、圧倒されたわ。さすがカトリックの総本山。建物も雰囲気もすごかった。

マリア：フランシスコ教皇には会えなかったの？

愛子：そう、残念だったわ。でも、教皇って日本の天皇みたいな存在だと思っていたけど、全然違うのよね。

マリア：教皇は a 立法・行政・司法の全権を持つ主権者で、議会もないから、ヴァチカンの政治は( 1 )といえるのよ。

愛子：天皇は日本国憲法上、( 2 )とされているし、国事行為には( 3 )の助言と承認が必要なんだって習ったわ。

マリア：2日目はトレビの泉と、スペイン広場か。

トレビの泉の西側にはモンテチトーリオ宮殿とキージ宮殿が、東側にはクイリナーレ宮殿があるんだけど、行ってきた？

愛子：えっ、何それ。行ってない。何なの？

マリア：モンテチトーリオ宮殿は下院議事堂、キージ宮殿は首相官邸、クイリナーレ宮殿は大統領官邸なの。

愛子：イタリアは大統領と首相がいるの？

マリア：そうよ。でも日本と同じ( 4 )制だから似ている仕組みもあるわ。例えば議会が持つ内閣への不信任決議権がそうよ。でも、イタリアは両院が持っているけどね。

愛子：日本は( 5 )だけって習ったわ。

マリア：イタリア3日目は私の故郷フィレンツェね。どうだった？

愛子：さすがルネサンスの町。シニョーリア広場と市庁舎のヴェッキオ宮殿、その前には世界史の資料集で見たダビデ像もあったわ。

マリア：あれはレプリカで、本物は美術館にあるけどね。ところでイタリアの地方自治は歴史的に複雑でかなり日本と違うけど、日本同様、地方分権が長いこと議論されているし、日本と似ている制度もあるわよ。例えば自治体ごとの経済格差を埋めるために国から配分されるお金がそうよ。

愛子：それを日本では( 6 )って言うのよ。ところで私の兄がこの間、選挙に行ってきたわ。日本では( 7 )歳以上に選挙権が与えられるのよ。それに b 裁判員に選ばれるかもしれないわ。私ももっと政治や裁判のことをしっかりと勉強しなくちゃ。

マリア：イタリアでも、2021年の憲法改正によって上院の選挙権年齢が( 7 )歳以上に引き下げられたの。それと、数年前に選挙法の改正が行われて、下院の選挙が日本の衆議院と同じように、小選挙区制と( 8 )制が組み合わされた制度になったのよ。投票の仕方はちょっと違うけどね。私も愛子に負けないように、しっかりと勉強して、選挙に行くつもりよ。

問1 文中の空欄( 1 )～( 8 )にあてはまる語句・数字として正しいものを、次のア～タの中からそれぞれ一つずつ選び、記号で答えなさい。

- |        |        |         |              |
|--------|--------|---------|--------------|
| ア 民主政  | イ 絶対王政 | ウ 神聖    | エ 象徴         |
| オ 国会   | カ 内閣   | キ 議院内閣  | ク 衆議院        |
| ケ 参議院  | コ 直接民主 | サ 国庫支出金 | シ 地方交付税(交付金) |
| ス 大選挙区 | セ 比例代表 | ソ 18    | タ 20         |

問2 下線部 a について、以下の各問いに答えなさい。

- (1) 三権分立を説いたフランスの思想家を答えなさい。
- (2) 上記(1)の人物が説いた三権分立の内容として正しいものを、次のア～エの中から一つ選び、記号で答えなさい。
- ア 三権がたがいに抑え合い、権力のバランスを保つことが大切である。
  - イ 国民主権の立場から、立法府である国会の権力に他の二権は介入できない。
  - ウ 司法権の独立のため、他の二権はこれに介入できない。
  - エ 三権はたがいに独立し、他の権力に介入できない。

問3 下線部 b について述べた文として正しいものを、次のア～エの中から一つ選び、記号で答えなさい。

- ア 裁判官から独立して裁判員だけで有罪か無罪かを決め、裁判官は量刑の決定とその言い渡しを行う。
- イ 民事裁判においては、裁判員が和解や調停をすすめる場合がある。
- ウ 第二審が行われる場合は、第一審と異なる裁判員がこれを担当する。
- エ 高齢や重い病気、家族の介護、重要な仕事などをのぞいて、裁判員になることを辞退できない。

問4 この会話に刺激を受けた愛子さんとマリアさんはイタリアと日本の憲法を比較したメモを作成しました。これに関して、以下の各問いに答えなさい。

メモ

イタリア共和国憲法	日本国憲法
第11条 イタリアは、他国民の自由を侵害する手段および国際紛争の解決手段としての <b>A</b> を否認する。	第 <b>B</b> 条 日本国民は、正義と秩序を基調とする国際平和を誠実に希求し、国権の発動たる <b>A</b> と、武力による威嚇又は武力の行使は、国際紛争を解決する手段としては、永久にこれを放棄する。
第21条 何人も、自己の思想を、自らの言論、書面およびその他のあらゆる普及手段により、自由に表明する権利を持つ。出版は、許可取得および検閲の対象とならない。	第21条 集会、結社及び言論、出版その他一切の表現の自由は、これを保障する。検閲は、これをしてはならない。
第38条 労働不能かつ生活手段に欠如する市民は、社会的扶養、社会的支援を受け権利を持つ。労働者は、労災、疾病、障害、老齢、不本意な失業の場合、生計確保に適正な手段が規定、保障される権利を持つ。	第22条 何人も、 <b>C</b> に反しない限り、居住、移転及び職業選択の自由を有する。
第41条 私的な経済活動は自由である。但し公益に反する又は、自由、人間の尊厳に危害を与える行為は禁じられる。	第25条 すべて国民は、健康で文化的な最低限度の生活を営む権利を有する。

- (1) メモ中の空欄 **A** ・ **B** にあてはまる語句・数字を、それぞれ答えなさい。
- (2) イタリア共和国憲法第21条と日本国憲法第21条は、ともに自由権の中の精神の自由について述べている。精神の自由をあらわしている文として正しいものを、次のア～エの中から一つ選び、記号で答えなさい。
- ア 私は、日本国憲法より大日本帝国憲法の方が優れているという論文を執筆中である。
  - イ 私の実家は代々続く料亭であるが、私は声優を目指している。
  - ウ 私の叔母は、女性ということで昇進を拒まれたので、現在、会社を訴えている。
  - エ 私の家に、突然警察が捜査に来たが、令状を持っていなかったので捜査を拒否した。

- (3) メモ中のイタリア共和国憲法第 41 条を参考に，日本国憲法第 22 条の空欄 C にあてはまる語句を答えなさい。
- (4) イタリア共和国憲法第 38 条と日本国憲法第 25 条は，ともにある権利について述べている。その権利とは何か，答えなさい。









2025年度 和歌山信愛高等学校  
 入学試験 社会 解答用紙

受験番号

--

【1】

問1	あ		い					
問2	ア		イ		ウ		エ	
問3		雨温図		問4				
問5								
問6		問7						
問8								

【4】

問1	(1)		(2)		問2	
問3	(1)	I		II		
	(2)	I		II		
問4		問5		問6		
問7	→ → →					
問8						

【2】

問1	あ		い		
問2		問3		問4	
問5			問6		
問7	(1)	1		2	
	(2)		問8		問9

【5】

問1	1		2		3		
	4		5		6		
	7		8				
問2	(1)			(2)		問3	
問4	(1)	A		B			
	(2)		(3)				
	(4)						

【3】

問1		問2				
問3		問4				
問5	(1)		(2)		問6	
問7		問8				
問9						

【1】	【2】	【3】	【4】	【5】	合計

2025年度 和歌山信愛高等学校  
 入学試験 社会 解答用紙

受験番号

--

【1】

問1	あ	サハラ砂漠	い	アパラチア山脈				
問2	ア	G	イ	J	ウ	A	エ	C
問3	ア	雨温図	④	問4	ウ			
問5	バイオエタノールを生産するための原料として使われるから							
問6	カ	問7	南アメリカ大陸					
問8	3月6日 8時45分							

【4】

問1	(1)	d	(2)	f	問2	ア
問3	(1)	I	ウ	II	エ	
	(2)	I	b	II	a	
問4	イ	問5	ウ	問6	イ	
問7	C→D→A→B					
問8	エ					

【2】

問1	あ	日高山脈	い	筑紫平野		
問2	ウ	問3	エ	問4	イ	
問5	三角州		問6	イ		
問7	(1)	1	徳島	2	瀬戸大橋	
	(2)	ストロー現象		問8	ウ	問9

【5】

問1	1	イ	2	エ	3	カ	
	4	キ	5	ク	6	シ	
	7	ソ	8	セ			
問2	(1)	モンテスキュー		(2)	ア	問3	エ
問4	(1)	A	戦争	B	9		
	(2)	ア	(3)	公共の福祉			
	(4)	生存権 (社会権)					

【3】

問1	推古天皇		問2	エ		
問3	天智天皇		問4	壬申の乱		
問5	(1)	ウ	(2)	イ	問6	白河天皇
問7	ア	問8	建武の新政			
問9	イ					

【1】	【2】	【3】	【4】	【5】	合計