

2026 年度

和歌山信愛高等学校
入学試験

社 会

(40 分 75 点)

受験上の注意

1. 開始のチャイムが鳴ったら、問題冊子のすべてのページがそろっていることを確認して、解答を始めなさい。
問題冊子は、1 ページから 20 ページまであります。
2. 受験番号は、問題冊子と解答用紙の両方に記入しなさい。
3. 解答は、すべて解答用紙に記入しなさい。
4. 終了のチャイムが鳴ったら、解答をやめなさい。
解答用紙は、問題冊子の上に開いたまま裏返して置きなさい。

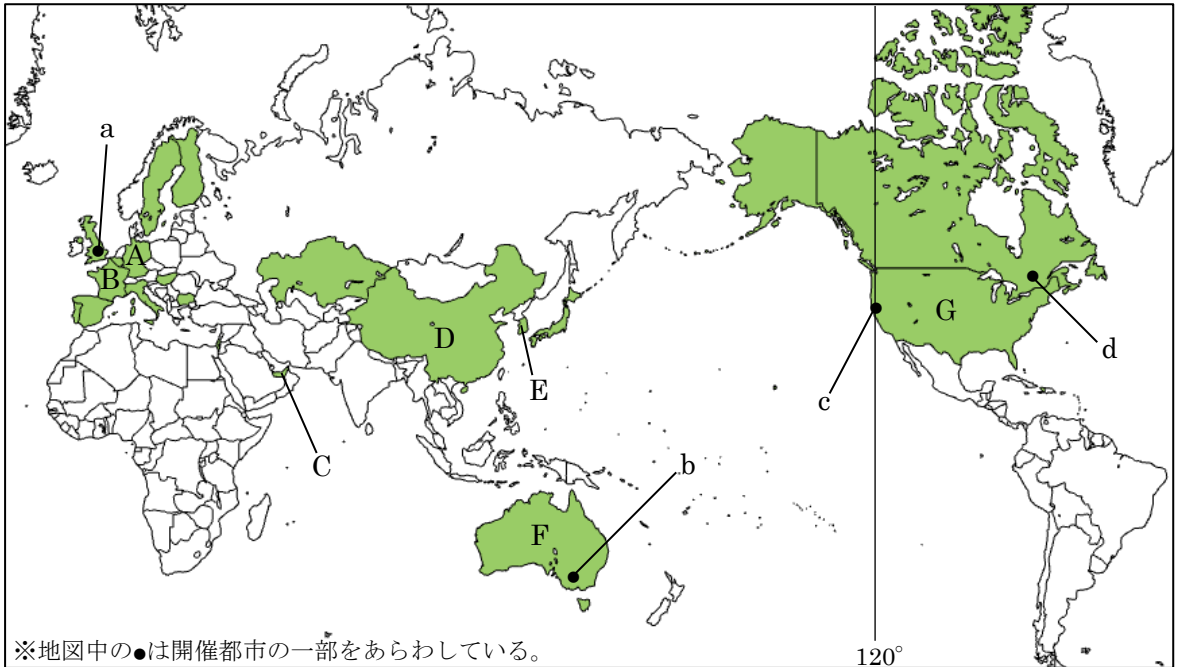
受験番号

(余白)

(余白)

問題は次のページから始まります。

【1】下記の地図の色のついている国は、過去に国際博覧会(万博)が開催された国のうちの一部である。これらについて、以下の各問に答えなさい。



問 1 地図中の A の国を源流とし、黒海に流れ出る河川を何というか、答えなさい。

問 2 地図中の A・B の国は、EU に加盟している。1990 年代から 2000 年代にかけて、西ヨーロッパだけでなく、東ヨーロッパへ EU 加盟国が拡大するなかで、A の国などの西ヨーロッパの国々の企業が、東ヨーロッパの国々に工場を移転するようになった。西ヨーロッパの国々の企業が、東ヨーロッパの国々に工場を移転するようになった理由を、「賃金」という語句を用いて簡単に説明しなさい。

問 3 地図中の C の国を含む、産油国の結びつきを強化するために結成された組織の略称を何というか、アルファベットで答えなさい。

問 4 地図中の D の国について述べた次の文 X・Y・Z について、その正誤の組み合わせとして正しいものを、下のア～エの中から一つ選び、記号で答えなさい。

X 黄河流域の華北、東北地方では、小麦や大豆などの畑作がおこなわれている。

Y 1980 年代ごろ、外国企業を積極的に受け入れ、内陸部に経済特区を設置した。

Z かつて実施されていた「一人っ子政策」により、現在少子高齢化が進行している。


- ア X-正 Y-正 Z-誤
 イ X-正 Y-誤 Z-正
 ウ X-誤 Y-正 Z-誤
 エ X-誤 Y-誤 Z-正

問 5 地図中の E の国について、右のグラフの

X・Y にあてはまるものとして正しいものを、次のア～エの中から一つずつ選び、記号で答えなさい。

- ア 液化天然ガス イ 自動車
 ウ 機械類 エ 魚介類

E の国の輸出品の変化

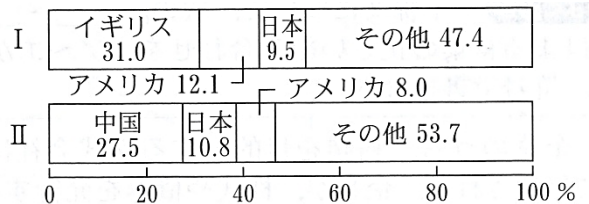


問 6 地図中の F の国について、右のグラフ 1 の


I, II, グラフ 2 の III, IV は、それぞれ 1960 年, 2020 年のいずれかのものである。2020 年の組み合わせとして正しいものを、下のア～エの中から一つ選び、記号で答えなさい。

- ア グラフ 1-I グラフ 2-III
 イ グラフ 1-I グラフ 2-IV
 ウ グラフ 1-II グラフ 2-III
 エ グラフ 1-II グラフ 2-IV

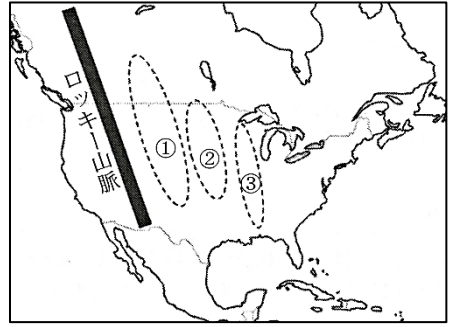
グラフ 1 F の国の貿易相手国の割合



グラフ 2 F の国の輸出品の割合

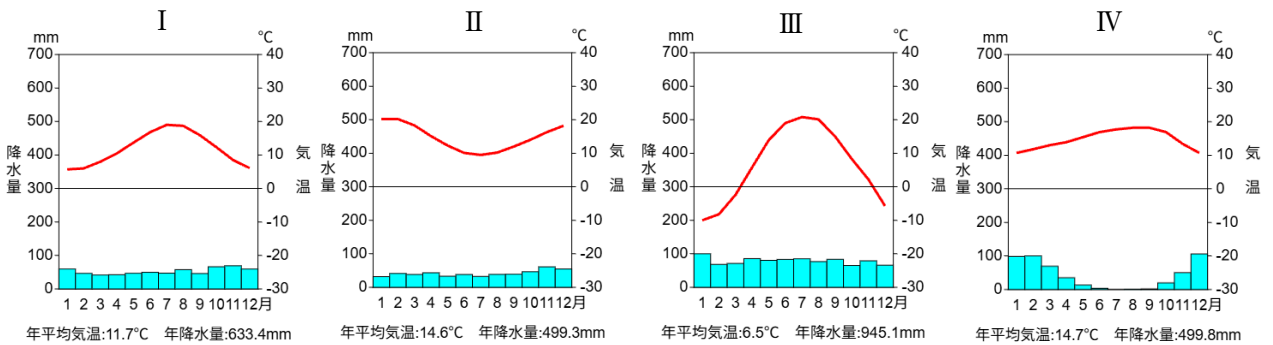


問7 地図中のGの国について、右の略地図の①～③にあてはまる語句の組み合わせとして正しいものを、次のア～エの中から一つ選び、記号で答えなさい。



- ア ① グレートプレーンズ ② プレーリー ③ 中央平原
 イ ① プレーリー ② グレートプレーンズ ③ 中央平原
 ウ ① グレートプレーンズ ② 中央平原 ③ プレーリー
 エ ① プレーリー ② 中央平原 ③ グレートプレーンズ

問8 次の雨温図I～IVは、地図中のa～dのいずれかの都市のものである。地図中のa～dの都市と雨温図I～IVの組み合わせとして正しいものを、下のア～クの中から一つ選び、記号で答えなさい。



(気象庁のデータより作成)

	I	II	III	IV
ア	a	b	c	d
イ	a	b	d	c
ウ	b	c	a	d
エ	b	a	d	c
オ	c	b	a	d
カ	c	d	b	a
キ	d	b	c	a
ク	d	b	a	c

問9 次の表は、小麦、米、とうもろこし、牛肉について、世界の生産量に占める上位5か国の生産量の割合(2021年)を示したものであり、表中の「あ」～「う」にはそれぞれ地図中のB・D・Gのいずれかが入る。「あ」～「う」にあてはまる国として正しいものを、B・D・Gの中から一つずつ選び、それぞれ記号で答えなさい。

順位	小麦		米		とうもろこし		牛肉	
	国名	割合(%)	国名	割合(%)	国名	割合(%)	国名	割合(%)
1	あ	17.8	あ	27.0	い	31.7	い	17.6
2	インド	14.2	インド	24.8	あ	22.5	ブラジル	13.5
3	ロシア	9.9	バングラデシュ	7.2	ブラジル	7.3	あ	9.6
4	い	5.8	インドネシア	6.9	アルゼンチン	5.0	インド	5.8
5	う	4.7	ベトナム	5.6	ウクライナ	3.5	アルゼンチン	4.1


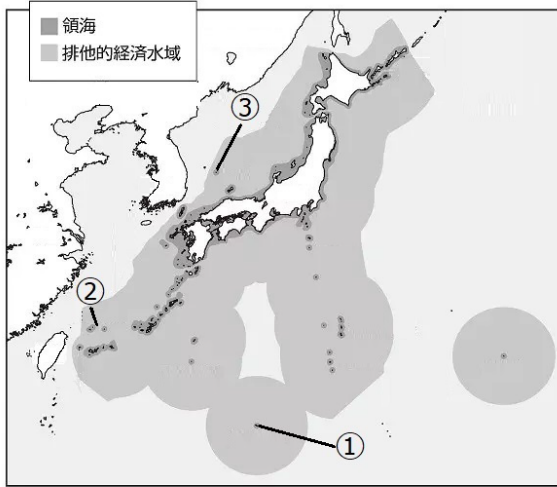
(「データブック オブ・ザ・ワールド 2024年版」より作成)

問10 次の文は、ある人物が地図中のcの都市から2030年の万博開催都市に住む友人に送ったメールについて述べている。2030年の万博開催都市の経度は何度か、答えなさい。なお、サマータイムは考えないものとする。

2030年の万博開催についての内容をメールでこの都市に住む友人に送信した。送信と受信で時間差はなく、cの都市から10月13日午後9時に送信し、この都市では10月14日午前8時に受信した。

【2】日本地理について、以下の各問いに答えなさい。

問 1 次の地図は日本の領域と排他的経済水域を示したものである。地図中の①および下の写真は日本の南端の島である。この島の名を何というか、答えなさい。

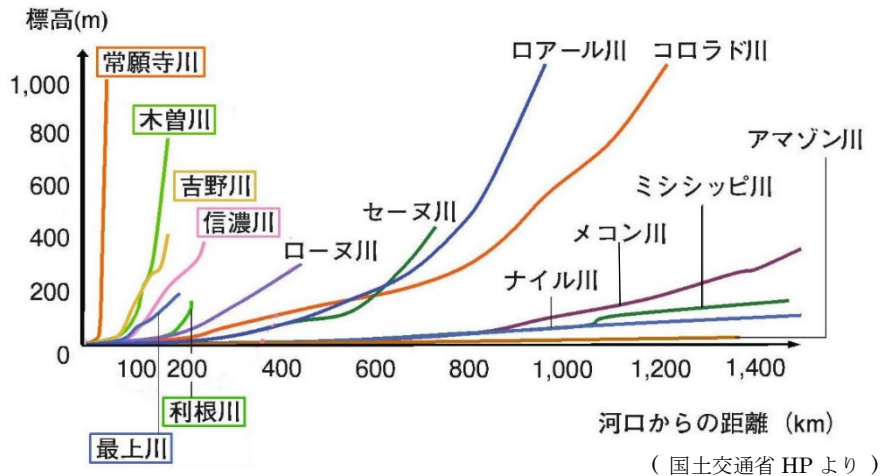


※領海には内水も含まれる。 ※排他的経済水域には接続水域も含まれる。

問 2 上の地図中の②・③は日本が領土をめぐる問題を抱える島々である。②・③の島々の名と相手国の組み合わせとして正しいものを、次のア～カの中から一つずつ選び、記号で答えなさい。

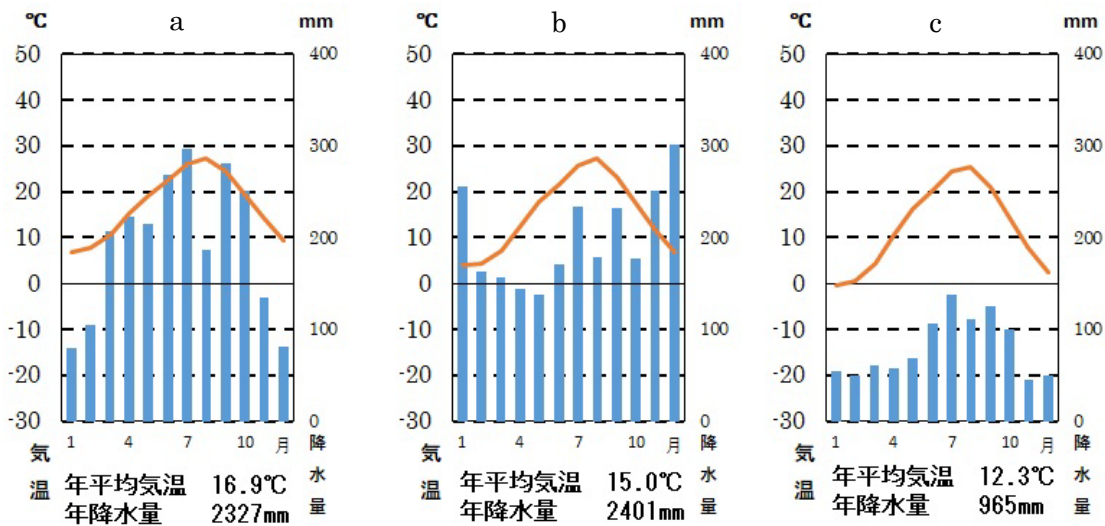
- | | | |
|-----------|-------------|-------------|
| ア 竹島 — 中国 | イ 尖閣諸島 — 中国 | ウ 北方領土 — 中国 |
| エ 竹島 — 韓国 | オ 尖閣諸島 — 韓国 | カ 北方領土 — 韓国 |

問 3 次の資料は日本と世界の河川の比較を示したものである。資料から読み取れる日本の河川の特徴として、下の文の にあてはまる内容を簡単に答えなさい。



「日本列島を流れる河川は世界の河川と比べ という特徴がある。」

問 4 次の雨温図 a～c は、石川県金沢市・静岡県静岡市・長野県長野市のいずれかのものである。雨温図 a～c とそれぞれの都市の組み合わせとして正しいものを、下のア～カの中から一つ選び、記号で答えなさい。



(「データブック オブ・ザ・ワールド 2025年版」より作成)

	ア	イ	ウ	エ	オ	カ
金沢市	a	a	b	b	c	c
静岡市	b	c	a	c	a	b
長野市	c	b	c	a	b	a

問 5 河川が山地から平野に出るところで、土砂がたまってできた右の写真のような地形を何というか、答えなさい。

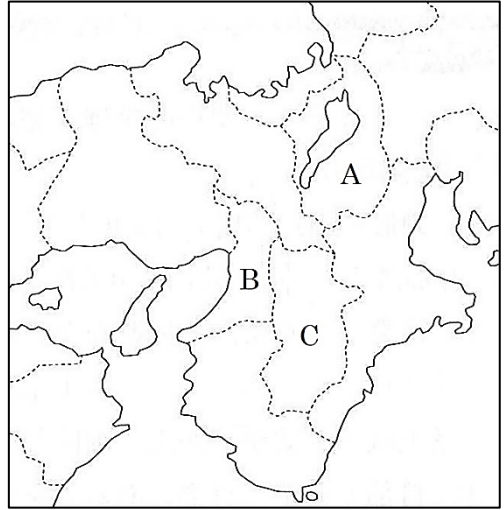


問 6 次の表は下の地図中の A～C のいずれかの府県の昼夜間人口比率(2020 年)を示したものである。表中①～③と地図中 A～C の組み合わせとして正しいものを、下のア～カの中から一つ選び、記号で答えなさい。

$$\text{昼夜間人口比率} = \text{昼間人口} \div \text{夜間人口} \times 100$$

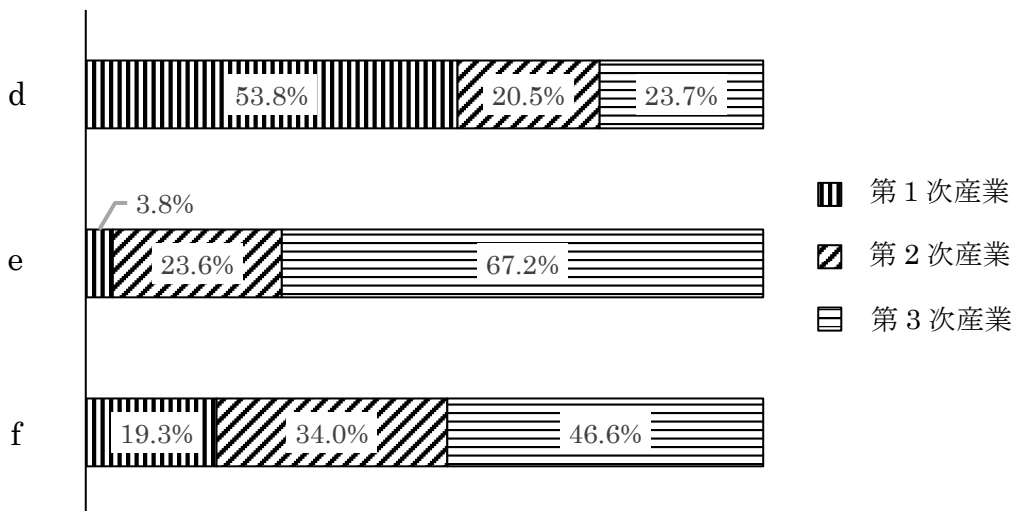
府県	昼夜間人口比率
①	103.9%
②	91.1%
③	96.9%

(e-Stat 政府統計より作成)




	ア	イ	ウ	エ	オ	カ
①	A	A	B	B	C	C
②	B	C	A	C	A	B
③	C	B	C	A	B	A

問 7 次のグラフは、日本の 1920 年、1970 年、2015 年のいずれかの産業別人口構成の割合を示したものである。グラフの d～f を、年代の古い順に記号で答えなさい。



(総務省統計局『国勢調査報告』より)

問 8 次のグラフは、おもな野菜の生産量の都道府県別割合を示したものである。グラフから読み取ることができる内容として正しいものを、下のア～エの中から一つ選び、記号で答えなさい。



(「データブック オブ・ザ・ワールド 2025年版」より作成)

- ア 千葉県のキャベツの生産量は約 100 万 t である。
- イ きゅうりの生産量上位 5 県のうち、関東地方の県の生産量をあわせた割合は、全体の 50%をこえる。
- ウ 茨城県はキャベツの生産量よりトマトの生産量の方が多い。
- エ 群馬県のキャベツとレタスそれぞれの全体の生産量に占める割合を比べると、キャベツの方が高い。

問9 日本の伝統産業は、自然の恵み・歴史的背景・生活文化の中で生まれ、今に引き継がれている。次の東北地方の伝統工芸品①～③と生産される県（下の地図中のD～I）の組み合わせとして正しいものを、下のア～カの中から一つ選び、記号で答えなさい。

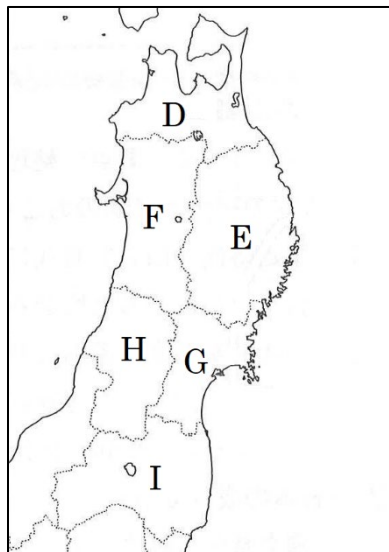
①



②




③



	ア	イ	ウ	エ	オ	カ
①	D	E	D	E	I	I
②	I	F	F	G	D	F
③	G	H	I	I	H	G

問題は次のページに続きます。

【3】 次の A～E のカードは、愛子さんの班が社会科の調べ学習で、歴史的遺産についてまとめたものである。これらを読んで、以下の各問いに答えなさい。


<p>A 万里の長城</p> 	<p>万里の長城は、a <u>中国を統一する帝国</u>を作り上げ、初めて「皇帝」と名乗った人物によって築かれた。b <u>それ以前の時代</u>の各国の王が、北方の遊牧民族の侵入に備えて造っていた長城を、つないだものである。(写真は明の時代に完成したもの)</p>
---	---

問 1 文中の下線部 a の国名として正しいものを、次のア～エの中から一つ選び、記号で答えなさい。

ア 漢 イ 殷 ウ 周 エ 秦

問 2 文中の下線部 b に関連して、中国では今から 1 万年ほど前に、黄河や長江の流域で農耕文明が生まれた。同じように川の流域で発展した文明にメソポタミア文明がある。その特徴を述べた文として正しいものを、次のア～エの中から一つ選び、記号で答えなさい。

- ア この文明では、整備された道路や水路をもつ都市が生まれ、その後、進出してきたアリア人が、神官を頂点とする身分制度(のちのカースト制度)を持つ国々を造った。
- イ この文明では、神殿を中心にした都市国家がいくつも生まれ、月の満ち欠けに基づく太陰暦が作られたほか、くさび形文字も発明された。
- ウ この文明では、強力な王の権力により小国を統一した王朝ができ、川のはんらんを予測するために天文学が発達し、太陽暦が作られ、象形文字も発明された。
- エ この文明では、きびや稲を栽培する農耕文明が生まれ、その後、成立した国では、優れた青銅器が作られ、戦争や農業などを占った結果が甲骨文字で刻まれた。


<p>B 藤原京</p> 	<p>藤原京は、天武天皇が c <u>唐や新羅</u>に負けないための国づくりを目指して造ることを命じ、その死後、持統天皇の時に完成した。(写真は復元模型) この後、701 年に、唐の律令にならった大宝律令が完成した。これにより天皇を頂点とする、中央に権力を集中させた d <u>律令国家</u>のしくみが整った。</p>
---	---

問 3 文中の下線部 c に関連して、藤原京が完成するおよそ 30 年前、当時は倭とよばれていた日本の軍が、唐と新羅の連合軍に大敗した。この戦いを何というか、答えなさい。

問 4 文中の下線部 d について、律令制における税負担の組み合わせとして正しいものを、次のア～カの中から一つ選び、記号で答えなさい。

X 租：収穫した稲の約 3%を納める Y 庸：特産物を納める
Z 防人：都まで布を運ぶ

ア X-正 Y-正 Z-正 イ X-正 Y-正 Z-誤
ウ X-正 Y-誤 Z-誤 エ X-誤 Y-正 Z-正
オ X-誤 Y-正 Z-誤 カ X-誤 Y-誤 Z-誤

<p>C <input type="checkbox"/> X</p> 	<p><input type="checkbox"/> X には、e <u>聖武天皇</u>が使った品々や、西アジアやインドから唐にもたらされ、それを f <u>遣唐使</u>が持ち帰ったとみられる宝物が数多く保管されている。当時の日本が、シルクロードの東の終着点であったことをまさに示している。</p>
---	--

問 5 空欄 X にあてはまる語句は何か、答えなさい。

問 6 文中の下線部 e の天皇の時代、中国の影響を強くうけた文化が、当時の都を中心に栄えた。この文化について述べた文として正しいものを、次のア～エの中から一つ選び、記号で答えなさい。

- ア 各地で反乱や自然災害が起こり、人々の心に不安な気持ちが高まると、阿弥陀仏にすがって死後に極楽浄土へ生まれ変わることを願う浄土信仰が都でおこった。
- イ 渡来人や蘇我氏を中心に信仰されていた仏教は、やがて飛鳥地方やその周辺に寺がいくつも造られるようになって発展した。
- ウ 国家のしくみが整うと、日本の国のおこりや、天皇が国を治めることの由来を説明しようとする動きが起こり、歴史書の『古事記』『日本書紀』が作られた。
- エ 貴族を中心とした文化を基礎に、中国の文化や武士の好みを反映した力強い文化が生まれ、東大寺南大門などが建てられた。

問 7 文中の下線部 f について、9 世紀になると唐の勢力がおとろえたので、894 年にある人物の提案により、遣唐使の派遣が停止された。この人物は誰か、答えなさい。

D 厳島神社



厳島神社は、中国との貿易で大きな利益を得た **g** 平清盛によって整備された。平清盛は、武士として初めて太政大臣となって朝廷の政治の実権をにぎり、他の平氏一族の者も高位高官にのぼったが、清盛の死後、平氏は **h** 鎌倉に結集した源頼朝を中心とする武士たちによって滅ぼされた。

問 8 文中の下線部 **g** について、この人物が朝廷の政治の実権をにぎるきっかけとなった 2 度の戦乱を、次の **ア**～**エ**の中から二つ選び、おこった順に答えなさい。

ア 後三年合戦 **イ** 平治の乱 **ウ** 壬申の乱 **エ** 保元の乱

問 9 文中の下線部 **h** に関連して、以下の各問いに答えなさい。


(1) 鎌倉時代に流行した仏教について述べた文として誤っているものを、次の **ア**～**エ**の中から一つ選び、記号で答えなさい。

- ア** 栄西は、座禅によってさとりを開こうとする禅宗を宋から伝え、臨済宗を開いた。
- イ** 法然は、念仏を唱えれば、極楽浄土に生まれ変われると説き、浄土宗を開いた。
- ウ** 親鸞は、阿弥陀仏を信じる心を強調した浄土真宗を広めた。
- エ** 一遍は、法華経の題目を唱えれば人も国も救われると説き、時宗を開いた。

(2) 鎌倉時代に使われた貨幣として正しいものを、次の **ア**～**エ**の中から一つ選び、記号で答えなさい。

- ア** 朝廷が発行した貨幣 **イ** 幕府が発行した貨幣
- ウ** 地域ごとに発行した貨幣 **エ** 中国から輸入した貨幣

E 大阪城



大阪城は、織田信長の家臣の i 羽柴秀吉(のちの豊臣秀吉)によって築かれた。信長の後継者争いに勝利した秀吉は、次々に他の大名たちを従え、1590年には関東の北条氏をほろぼして、全国を統一した。信長と秀吉の時代を、それぞれの城にちなんで、時代という。

問 10 文中の下線部 i について、豊臣秀吉の取り組みとして誤っているものを、次のア～エの中から一つ選び、記号で答えなさい。

ア バテレン追放令 イ 刀狩令 ウ 武家諸法度 エ 太閤検地

問 11 空欄 にあてはまる語句は何か、答えなさい。

【4】 中学3年生の優美子さんは、社会科の自主研究で、授業で興味をもったテーマの年表を作ることにした。以下のⅠとⅡの年表は作成途中のものである。これらを見て、以下の各問いに答えなさい。

年表Ⅰ

年代	ヨーロッパとの交流・外交関係
a <u>1549</u> 年	キリスト教の伝来
b <u>1641</u> 年	オランダ商館が出島に移される
c <u>1792</u> 年	ラクスマンが来航する
1858年	d <u>日米修好通商条約を結ぶ</u>
1904年	日露戦争がおこる

年表Ⅱ

年代	戦後日本のあゆみ
1945年	ポツダム宣言を受諾し、降伏する
1946年	日本国憲法を公布する
1951年	サンフランシスコ平和条約を結ぶ
1955年	e <u>日本の経済水準が戦前並みに回復</u>
1972年	沖縄が日本に復帰

問1 年表中の下線部 a に関連して、このころの世界の国々の動きについて述べた文として正しいものを、次のア～エの中から一つ選び、記号で答えなさい。

- ア イスラム世界では、オスマン帝国がビザンツ帝国を征服した。
- イ 古代ギリシャ文化を理想とするルネサンス(文芸復興)とよばれる風潮が広まった。
- ウ チンギス・ハンが、モンゴル高原の遊牧民の勢力を統一してモンゴル帝国を築いた。
- エ 李成桂が、高麗をほろぼして朝鮮国を建てた。

問2 年表中の下線部 b について、この2年前に、出島で貿易をしていた国が来航禁止になっている。その国はどこか、次のア～エの中から一つ選び、記号で答えなさい。

- ア フランス イ ポルトガル ウ 朝鮮 エ 中国

問3 年表中の下線部 c に関連して、このころ、松平定信がおこなった幕府の政治改革の内容として誤っているものを、次のア～エの中から一つ選び、記号で答えなさい。

- ア ききんで江戸に出て来ていた農民を故郷に帰した。
- イ 凶作やききに備えて米をたくわえさせた。
- ウ 江戸や大阪周辺の土地を幕領にしようとした。
- エ 商人から借りた旗本・御家人の借金を帳消しにした。

問 4 年表中の下線部 d について、この条約は日本にとって不平等なものだったので、欧米と対等な地位を得るため、この後、日本は条約改正の交渉を進めていった。条約改正交渉について述べた次の文ア～エを古い順に並べかえ、3 番目にくるものを記号で答えなさい。

ア 小村寿太郎は、アメリカとの条約に調印して、関税自主権の回復に成功した。

イ 陸奥宗光は、イギリスとの条約に調印して、領事裁判権の撤廃に成功した。

ウ 井上馨は、鹿鳴館で舞踏会を開くなどの欧化政策を採りつつ、改正交渉に臨んだ。

エ 岩倉具視は、大規模な岩倉使節団の全権大使として欧米に派遣され、交渉に臨んだ。

問 5 年表 I に関して、この期間に世界で起きたできごとについて述べた次の文ア～エを古い順に並べかえ、3 番目にくるものを記号で答えなさい。

ア アメリカ独立宣言が出された。 イ イギリスで名誉革命がおこった。

ウ ビスマルクがドイツを統一した。 エ ナポレオンがフランス皇帝になった。

問 6 年表中の下線部 e について、この数年前から、日本はアメリカ軍による特需によって経済の回復がすすんでいた。この特需の要因となったできごととは何か、答えなさい。

問 7 年表 II に関して、この期間に起きたできごとについて述べた次の文 X・Y と、その時の内閣総理大臣の組み合わせとして正しいものを、下のア～クの中から一つ選び、記号で答えなさい。

X 1951 年、日本はアメリカなど 48 か国とサンフランシスコ平和条約を結び、翌年、条約の発効とともに独立を回復した。

Y 1972 年、アメリカの統治下に残されていた沖縄が日本に復帰した。この過程で、核兵器を「持たず、作らず、持ち込ませず」という非核三原則が国の方針になった。

ア X－吉田茂

Y－池田勇人

イ X－吉田茂

Y－岸信介

ウ X－吉田茂

Y－佐藤栄作

エ X－池田勇人

Y－吉田茂

オ X－池田勇人

Y－岸信介

カ X－池田勇人

Y－佐藤栄作

キ X－岸信介

Y－吉田茂

ク X－岸信介

Y－佐藤栄作

【5】 次の信子さんと希さんの会話文を読んで、以下の各問いに答えなさい。

信子さん：昨日の社会の授業で学んだ日本国憲法について復習しておこう。

希さん：a 日本国憲法は1947年に施行されたもので、b 大日本帝国憲法とは異なるところがあるのよね。

信子さん：例えば、大日本帝国憲法では天皇を国の元首で神聖不可侵としているけれど、日本国憲法では、天皇は日本国の(1)であり日本国民統合の(1)であるとされているわね。

希さん：天皇は憲法に定められた(2)という形式的・儀礼的な仕事だけを行うのよね。しかも、(2)を行うときには内閣の(3)と承認が必要とされていると勉強したわ。

信子さん：日本国憲法には3つの原理があったのよね。1つめは、国の政治のあり方を最終的に決める権限が国民にあるという国民主権ね。2つめは平和主義で、戦争を放棄し、戦力を持たず、交戦権を認めないことがうたわれているわね。あともう1つは何だったかしら。

希さん：c 基本的人権の尊重よ。国民が人間らしい豊かな生活を送るために保障されているのよ。

信子さん：これからも日本国憲法を大事にしていきたいわね。

問1 文中の空欄(1)～(3)にあてはまる語句を、それぞれ答えなさい。

問2 下線部 a について、日本国憲法の改正について、以下の文中の空欄 ・ にあてはまる語句の組み合わせとして正しいものを、下のア～エの中から一つ選び、記号で答えなさい。

国会による憲法改正の発議には、衆議院・参議院それぞれの総議員の の賛成が必要である。発議を受けて行われる 歳以上の国民による国民投票では、過半数が賛成した場合、憲法が改正されることとなる。

- ア X-過半数 Y-20 イ X-3分の2以上 Y-20
ウ X-過半数 Y-18 エ X-3分の2以上 Y-18

問3 下線部 b について、大日本帝国憲法における国民の権利について述べた次の文中の空欄 にあてはまる語句を答えなさい。

国民の自由や権利は天皇があたえる「の権利」として、法律によって制限されていた。

問4 下線部 c に関連して、以下の各問いに答えなさい。

(1) 日本国憲法に直接的に規定されている権利として誤っているものを、次のア～エの中から一つ選び、記号で答えなさい。

- ア 職業を選択する権利 イ よい環境の中で生きる権利
ウ 自由に本を出版する権利 エ 教育を受ける権利

(2) 次の文 X・Y は人権に関する言葉について述べたものである。その正誤の組み合わせとして正しいものを、下のア～エの中から一つ選び、記号で答えなさい。

X インクルージョンとは、個性に応じた援助や配慮をして、多様な個性の人が不自由なく生活できるようにすることである。

Y インフォームド・コンセントとは、病気や治療方針の説明などに対する患者の同意のことである。

- ア Xー正 Yー正 イ Xー正 Yー誤
ウ Xー誤 Yー正 エ Xー誤 Yー誤

【6】 次の文章は、選挙についてまとめたものである。この文章を読んで、以下の各問いに答えなさい。

日本の a 選挙制度 は、(1)法という法律で定められています。1つの選挙区で1人の候補者を選ぶ(2)制や、得票に応じてそれぞれの政党の議席数を決める b 比例代表制 などがあります。

また、衆議院と参議院の選挙では、被選挙権を持つ年齢が異なります。衆議院では 歳以上が被選挙権を持ち、参議院では 歳以上が被選挙権を持ちます。

最近の選挙の課題として一票の格差という問題があります。実際に一票の格差に関する c 裁判 もおこなわれています。

問1 文中の空欄(1)・(2)にあてはまる語句を、それぞれ答えなさい。

問2 文中の空欄 ・ に入る数字を、次のア～エの中からそれぞれ選び、記号で答えなさい。

ア 18 イ 20 ウ 25 エ 30

問3 下線部 a に関連して、普通選挙について述べた文として正しいものを、次のア～エの中から一つ選び、記号で答えなさい。

- ア 一人につき一票の投票権を持つ。
- イ 候補者や政党を自分で直接選ぶ。
- ウ どの政党や候補者に投票したかを他人に知られないように無記名で投票する。
- エ 一定の年齢以上の全ての国民が選挙権を持つ。

問4 下線部 b について、次の表は比例代表制(ドント式)による選挙の各政党の得票数をまとめたものである。定数を6人とするとき、A党に配分される議席数を、下のア～エの中から一つ選び、記号で答えなさい。

	A党	B党	C党
得票数	6800票	5500票	3700票

ア 1議席 イ 2議席 ウ 3議席 エ 4議席

問 5 下線部 c について、次の文 X・Y は裁判に関して述べたものである。その正誤の組み合わせとして正しいものを、下のア～エの中から一つ選び、記号で答えなさい。

X 裁判員裁判は、重大な刑事事件の第一審でおこなわれる。

Y 最高裁判所の裁判官は、国民審査でしか辞めさせることができない。

ア X-正 Y-正 イ X-正 Y-誤

ウ X-誤 Y-正 エ X-誤 Y-誤

--

【1】

問1	川						
問2							
問3			問4				
問5	X	Y		問6	問7		
問8	問9		あ	い		う	
問10							

【4】

問1			問2			問3			問4		
問5			問6				問7				

【5】

問1	1				2						
	3				問2						
問3				問4	(1)			(2)			

【2】

問1	島							
問2	②	③						
問3						問4		
問5			問6					
問7					問8			
問9								

【6】

問1	1				2					
問2	X	Y		問3						
問4			問5							

【3】

問1			問2			問3				
問4			問5				問6			
問7				問8						
問9	(1)			(2)						
問10			問11							

--

【1】

問1	ドナウ川							
問2	東ヨーロッパの国々は、西ヨーロッパに比べて賃金が安いから。							
問3	OPEC	問4 イ						
問5	X	ウ	Y	イ	問6	ウ	問7	ア
問8	イ	問9	あ	D	い	G	う	B
問10	東経45度							

【4】

問1	イ	問2	イ	問3	ウ	問4	イ
問5	エ	問6	朝鮮戦争		問7	ウ	

【5】

問1	1	象徴	2	国事行為
	3	助言	問2	エ
問3	臣民		問4	(1) イ (2) ア

【2】

問1	沖ノ鳥島				
問2	②	イ	③	エ	
問3	長さが短く、急こう配である。			問4	ウ
問5	扇状地		問6	エ	
問7	d	f	e	問8	エ
問9	イ				

【6】

問1	1	公職選挙	2	小選挙区		
問2	X	ウ	Y	エ	問3	エ
問4	ウ	問5	イ			

【3】

問1	エ	問2	イ	問3	白村江の戦い	
問4	ウ	問5	正倉院		問6	ウ
問7	菅原道真		問8	エ	イ	
問9	(1)	エ	(2)	エ		
問10	ウ	問11	安土・桃山			