

2019 年度

和歌山信愛高等学校
入学試験

社 会

(40 分 80 点)

受験上の注意

1. この問題冊子は、1 ページから 13 ページまであります。
開始のチャイムが鳴ったら、確認して始めなさい。
2. 受験番号は、問題冊子と解答用紙の両方に書きなさい。
3. 解答は、すべて解答用紙に書きなさい。
4. 終了のチャイムが鳴ったら、問題冊子の上に、解答用紙を開いたまま裏返して置きなさい。

受験番号

(余白)

(余白)

問題は次のページから始まります。

【1】 次の世界地理に関する文章を読み、以下の各問いに答えなさい。

日本企業の海外進出は、年を追うごとに加速している。まず地域別に見てみると、アジアに約 70%、北米に約 12%、㊦西欧（西ヨーロッパ）に約 8%となり、アジア地域への進出が目立つ。次に国別に見てみると、多い順に、中国、アメリカ合衆国、インド、ドイツ、インドネシアとなる。このように多くの日本企業が海外進出を果たしているが、進出する理由として、海外向けに日本の製品をさらに販売するため、そして㊦安価な労働力を確保するためという二つが考えられる。これら両方の理由を十分に満たしている国が、最も企業進出総数の多い㊦中国である。2位の㊦アメリカ合衆国へは、自動車や家電メーカーをはじめ、さまざまな企業が進出し、3位の㊦インドへは豊富で安価な労働力や、IT 大国の技術力を求めて多くの企業が進出している。

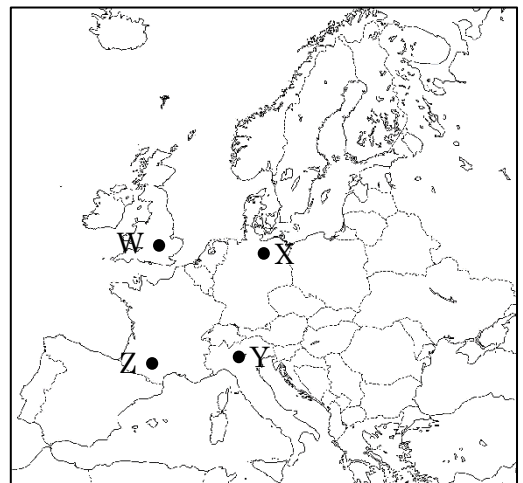
グローバル化にともない、さらなる海外進出がおこなわれていくと予想される。今後はカンボジア、㊦メキシコ、ミャンマーなど、世界が注目している国々への進出も目立っていくであろう。

※ 文中のデータは「外務省資料 2017 年」による

問 1 下線部㊦について、日本企業の海外進出は西欧の中でも特にドイツが多い。これに関連して、以下の各問いに答えなさい。

- (1) ドイツのハンブルクには、航空機メーカーの組み立て工場がある。西欧でハンブルク以外にこのような工場がある都市はどこか。[図 1] 中の W~Z と、都市名の組み合わせとして正しいものを、次のア~クの中から一つ選び、記号で答えなさい。

- ア W - ロンドン
- イ W - ミラノ
- ウ X - トゥールーズ
- エ X - ベルリン
- オ Y - ミラノ
- カ Y - ロンドン
- キ Z - ベルリン
- ク Z - トゥールーズ



[図 1]

- (2) 2016 年現在、ドイツを含むヨーロッパ 28 か国はヨーロッパ連合(EU)に加盟している。EU 域内で多くの国が導入している共通の通貨を何というか、答えなさい。

問2 下線部㊸について、安い賃金で労働者を確保しようとした結果、日本国内の工場数や生産量が減少した。このような状態を何というか、答えなさい。

問3 下線部㊸について、中国は以前から「世界の工場」とよばれていたが、一方で、輸出向けであった家電製品や自動車などが国内向けにも生産されるようになった。このことから、中国は新たに何とよばれるようになったか、答えなさい。

問4 下線部㊸について、以下の各問いに答えなさい。

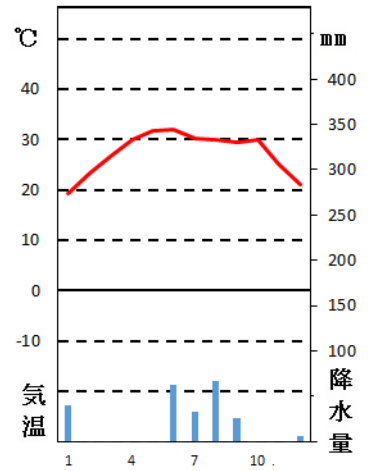
- (1) この国の農業について述べた文として**誤っているもの**を、次のア～オの中から**二つ**選び、記号で答えなさい。
- ア アパラチア山脈の東側の地域では砂漠が見られ、放牧がさかんである。
 - イ 冷涼な気候を利用し、五大湖周辺では酪農がさかんである。
 - ウ 東経 100 度付近に広がるグレートプレーンズでは、小麦の栽培がさかんである。
 - エ 南東部では綿花の栽培がさかんであるが、近年は大豆生産に切り替える農家も多い。
 - オ 世界で 3 番目に人口が多いアメリカ合衆国は、世界最大の農産物輸出国である。
- (2) アメリカ合衆国のロサンゼルスで 9 月 16 日午後 3 時におこなわれる野球の試合を、東京で友人とライブ観戦することにした。確実に最初から観戦できるように、試合開始の 1 時間前に待ち合わせするとすれば、待ち合わせ時間は日本時間で何月何日何時になるか、答えなさい。ただし、ロサンゼルスは西経 120 度とする。

問5 下線部㊟に関連して、以下の各問いに答えなさい。

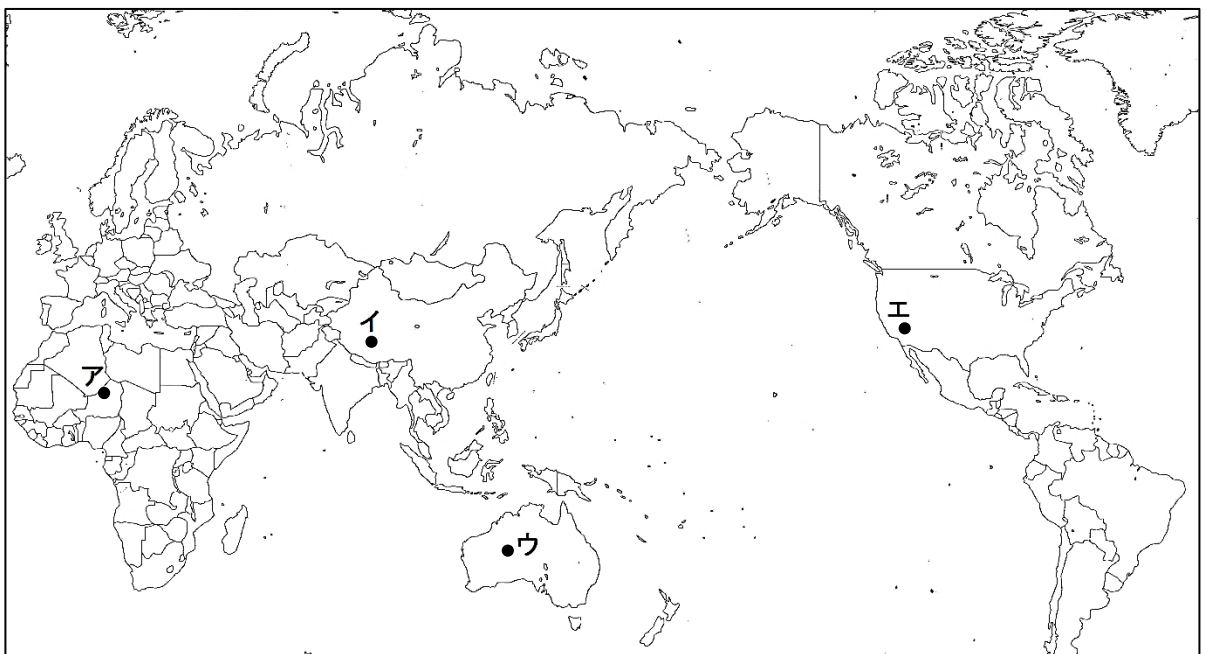
(1) この国では、人口の増加が問題となっている。近年の世界の人口について述べた文として正しいものを、次のア～エの中から一つ選び、記号で答えなさい。

- ア インドは、世界で2番目に人口が多い国である。
- イ 中国の人口は、世界の人口の約4割を占めている。
- ウ 2015年現在、世界には約60億の人々が生活している。
- エ 日本の人口は約1億2800万人で、人口密度は低い。

(2) 右の雨温図は、インドの西隣の国パキスタンのカラチのものである。この雨温図とは異なる気候帯に属する地点を、[図2]のア～エの中から一つ選び、記号で答えなさい。

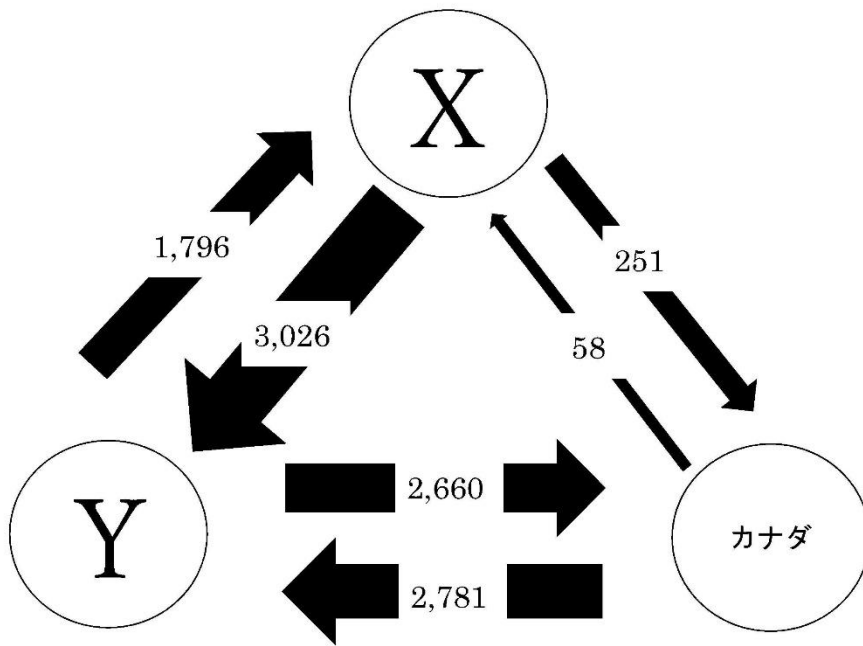


(「気象庁資料 2017年」により作成)



[図2]

問6 下線部①について、メキシコ、アメリカ合衆国、カナダの3か国は北米自由貿易協定 (NAFTA)により結びつきを強めている。3か国の貿易をあらわす次の[図3]のうち、Yにあてはまる国名を答えなさい。ただし、矢印の太さは取引額の多さを示すものとする。



(「Global Trade Atlas」により作成)

※ 数値は2016年、単位は億ドル

[図3]

【2】 次の日本地理に関する文章を読み、以下の各問いに答えなさい。

㊤東京・大阪・名古屋の三大都市圏は、多くの大学や企業が集中しており、経済の中心になっている。しかし㊦人口が集中しすぎているために、都市問題が発生している。

一方で、都市へ若年層が流出してしまった農村・山間部・離島などの地方では、老年人口の割合が高くなり、過疎化が問題となっている。そのため、各地方では、若い人たちが働ける場所を増やしたり、都会から移住してくる人々に住宅を提供したりするなど、㊧さまざまな取り組みがおこなわれている。

問1 下線部㊤について、以下の各問いに答えなさい。

- (1) ビルや商業施設が特に集中する大都市の中心部では、周辺より気温が高くなる現象が見られる。この現象を何というか、答えなさい。
- (2) 大都市周辺では、野菜や花などの栽培が多い。このように、大都市周辺でおこなわれる農業を何というか、答えなさい。
また、大都市に近い地域でこのような農業がおこなわれるのはなぜか、その利点を考えて理由を説明しなさい。
- (3) 大都市周辺には、工業地帯も集まっている。次の表は、工業地帯別の生産割合を示したものである。X～Zにあてはまる工業地帯の組み合わせとして正しいものを、次のア～カの中から一つ選び、記号で答えなさい。

京浜工業地帯		X		Y		Z	
機械	34.9%	機械	64.5%	機械	41.1%	機械	33.7%
化学	29.7%	化学	12.9%	鉄鋼・金属	17.9%	化学	23.6%
鉄鋼・金属	12.5%	鉄鋼・金属	10.5%	食品	16.5%	鉄鋼・金属	22.5%
食品	11.8%	食品	4.9%	化学	12.9%	食品	10.6%

(「経済産業省資料 2014年」により作成)

- | | | |
|-------------|-----------|-----------|
| ア X 阪神工業地帯 | Y 中京工業地帯 | Z 北九州工業地帯 |
| イ X 阪神工業地帯 | Y 北九州工業地帯 | Z 中京工業地帯 |
| ウ X 中京工業地帯 | Y 阪神工業地帯 | Z 北九州工業地帯 |
| エ X 中京工業地帯 | Y 北九州工業地帯 | Z 阪神工業地帯 |
| オ X 北九州工業地帯 | Y 阪神工業地帯 | Z 中京工業地帯 |
| カ X 北九州工業地帯 | Y 中京工業地帯 | Z 阪神工業地帯 |

問2 下線部㊸について、このような状態を何というか、答えなさい。

問3 下線部㊸について、地方では、伝統産業を体験してもらうことにより観光客を呼び込むなど、さまざまな取り組みをしている。伝統工芸品とその生産県の組み合わせとして**誤っているもの**を、次のア～エの中から一つ選び、記号で答えなさい。

ア 有田焼 — 佐賀県

イ 輪島塗 — 福井県

ウ 南部鉄器 — 岩手県

エ 大館曲げわっぱ — 秋田県

【3】次の文章は、中学3年生の信子さんが夏休みを利用して「世界文化遺産」の研究に取り組んだレポートの一部である。これを読み、以下の各問いに答えなさい。

私は先日、遠足で高野山を訪れ、「㉑紀伊山地の霊場と参詣道」が世界文化遺産に登録されていることを知り、世界文化遺産に興味をもつようになりました。そこで、日本で最初に世界文化遺産に登録された場所を調べてみたところ、奈良県の「㉒法隆寺地域の仏教建造物」と兵庫県の「㉓姫路城」がともに1993年に登録されていることがわかりました。翌1994年には「㉔古都京都の文化財」が、1998年には「古都奈良の文化財」が登録されており、近畿地方には多くの世界文化遺産が存在することもわかりました。

また、広島県には「㉕厳島神社」だけではなく「原爆ドーム」のような比較的新しい時代の世界文化遺産もありました。ほかにも群馬県の「㉖富岡製糸場と絹産業遺産群」や、九州・山口県・岩手県・静岡県にまたがる「明治日本の産業革命遺産 製鉄・製鋼、造船、石炭産業」などがあり、その歴史的価値が認められていることを知りました。

そして昨年、「㉗長崎と天草地方の潜伏キリシタン関連遺産」が世界文化遺産として登録されました。「潜伏キリシタン」はキリスト教の信仰が禁じられていた時代に、隠れて信仰を貫いた人々のことをいいます。

これらのことから私は、世界文化遺産には時代に関係なく、日本の歴史・文化を象徴するものが登録されていることを学びました。

問1 下線部㉑について、平安時代の初めに真言宗を開き、高野山に金剛峯寺を建てた人物は誰か、答えなさい。

問2 下線部㉒について、法隆寺を建てたとされる人物が活躍したころのできごとについて述べた文として正しいものを、次のア～エの中から一つ選び、記号で答えなさい。

ア 日本最大の前方後円墳である大仙(大山)古墳がつけられた。

イ 冠位十二階が設けられ、十七条の憲法が制定された。

ウ 大化の改新とよばれる政治改革がおこなわれた。

エ 律令国家のしくみを定めた大宝律令がつけられた。

問3 下線部㉓について、姫路城は豊臣秀吉の時代を代表する城である。豊臣秀吉が確実に年貢を集めるためにおこなった土地調査を何というか、答えなさい。

問4 下線部㉔に関連して、「古都京都の文化財」には、銀閣(慈照寺)が含まれる。銀閣にとり入れられた建築様式を何というか、答えなさい。

問5 下線部㊸に関連して、厳島神社は平清盛によって整備された。そのころのできごとについて述べた文として正しいものを、次のア～エの中から一つ選び、記号で答えなさい。

- ア 日宋貿易のために大輪田泊が修築された。
- イ 源頼朝は保元の乱で平清盛にやぶれて、伊豆に流された。
- ウ 平清盛は、武士として初めて関白になった。
- エ 平氏は四国の壇ノ浦の戦いで滅ぼされた。

問6 下線部㊸に関連して、富岡製糸場がつくられたころの世界の動きについて述べた文として正しいものを、次のア～エの中から一つ選び、記号で答えなさい。

- ア イギリスでピューリタン(清教徒)革命がおこり、共和政が実現した。
- イ 古代ギリシャ・ローマ文化を理想とするルネサンスがおこった。
- ウ ポルトガル・スペインが東アジア貿易に参加するようになった。
- エ プロイセン王国が諸国を統一し、ドイツ帝国が誕生した。

問7 下線部㊸に関連して、下の図は何とよばれる取り調べをおこなっているところか、答えなさい。



(シーボルト『Nippon』より)

【4】 次の中学3年生の望さんと先生の会話文を読み、以下の各問いに答えなさい。

望：先生、今年の4月で平成という時代は終わりますね。

先生：そうだね。明治時代の初めに、一人の天皇が一つの元号を使う一世一元の制が採用されたんだ。

望：明治天皇は16歳で即位し、1868年から1912年まで明治時代が続いたんですよね？

先生：この45年間は富国強兵と㉔文明開化、㉕自由民権運動、㉖日清戦争・日露戦争など、まさに激動の時代と言えるね。

望：1912年に明治天皇が亡くなって、大正天皇が即位しますが、大正時代はわずか15年で終わるんですよね？大正時代といえば㉗第一次世界大戦と㉘大正デモクラシーくらいしか思いつかないのですが。

先生：大正天皇は体が丈夫ではなかったから、ご自身で政務をとられることは少なかったんだ。1926年に大正天皇が亡くなって昭和天皇が即位されるんだけど、昭和天皇の在位期間は62年もあったんだよ。昭和もまた、㉙第二次世界大戦と㉚戦後復興、㉛高度経済成長など、激動の時代と言えるね。

望：そして1989年から始まった平成という時代はまもなく終わり、私たちは新しい時代を迎えるんですね。

問1 下線部㉔について述べた文として誤っているものを、次のア～エの中から一つ選び、記号で答えなさい。

- ア 牛なべなどの西洋料理が流行した。
- イ ラジオ放送が始まった。
- ウ 太陰暦から太陽暦に変更された。
- エ 洋服を着て靴をはく人もあらわれた。

問2 下線部㉕に関連して、1874年に民撰議院設立の建白書を政府に提出し、のちに自由党の総理(党首)となった人物は誰か、答えなさい。

問3 下線部㉖について、日清戦争とその講和条約および日露戦争とその講和条約の組み合わせとして正しいものを、次のア～カの中から一つ選び、記号で答えなさい。

- | | | |
|------------------|------------------|-------|
| ① 日清戦争 — ポーツマス条約 | ② 日露戦争 — ポーツマス条約 | |
| ③ 日清戦争 — 下関条約 | ④ 日露戦争 — 下関条約 | |
| ⑤ 日清戦争 — 南京条約 | ⑥ 日露戦争 — 南京条約 | |
| ア ①・④ | イ ④・⑤ | ウ ③・⑥ |
| エ ②・③ | オ ②・⑤ | カ ①・⑥ |

問4 下線部㉔について、1914年にオーストリア皇太子夫妻がセルビアの青年によって暗殺される事件がおり、これが第一次世界大戦の引き金となった。この事件を何というか、答えなさい。

問5 下線部㉔に関連して、大正時代のできごとについて述べた文として正しいものを、次のア～エの中から一つ選び、記号で答えなさい。

- ア 25歳以上のすべての男性に衆議院議員の選挙権を与える男子普通選挙が実現した。
- イ 田中正造が、足尾銅山の鉱毒被害を天皇に直接訴えた。
- ウ 世界恐慌の影響が日本にも及び、日本経済は大打撃をうけた。
- エ 樋口一葉が、都市に生きる貧しい女性を小説にえがいた。

問6 下線部㉔について、この時の日本と世界の国々の動きについて述べた文として正しいものを、次のア～エの中から一つ選び、記号で答えなさい。

- ア ドイツはイギリスと不可侵条約を結んだ。
- イ ドイツ・イタリア・日本は三国協商を結んだ。
- ウ ソ連は日本と中立条約を結んだ。
- エ アメリカ・ソ連・中国の名前でポツダム宣言が出された。

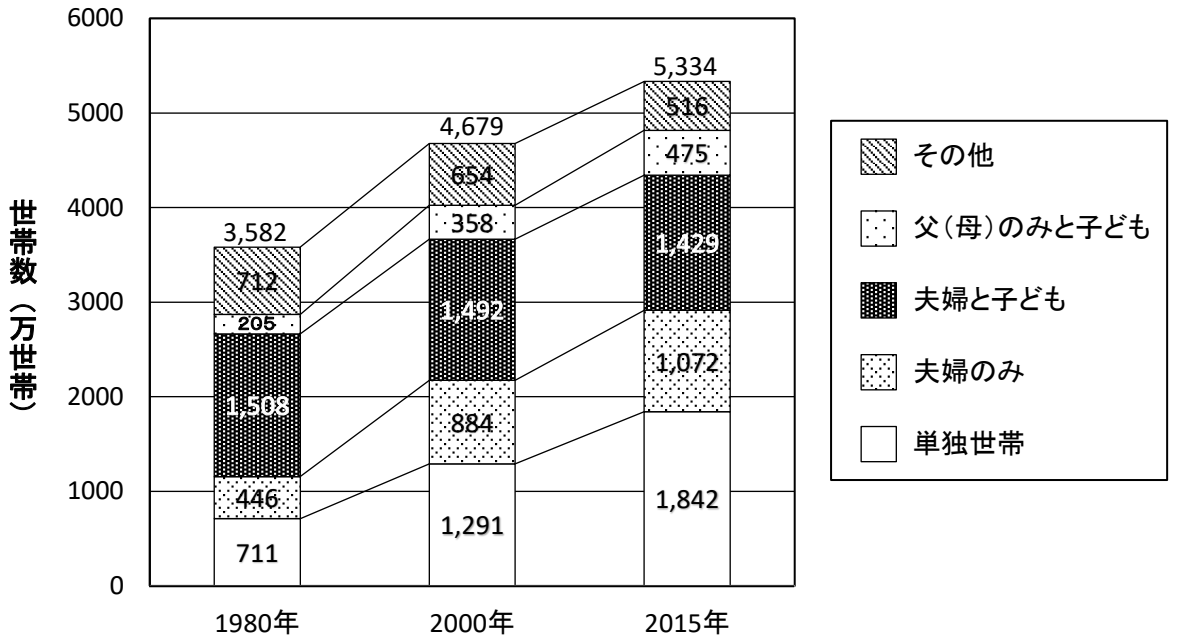
問7 下線部㉔に関連して、戦後の民主化の取り組みとして誤っているものを、次のア～エの中から一つ選び、記号で答えなさい。

- ア 財閥解体
- イ 農地改革
- ウ 治安維持法の制定
- エ 教育基本法の制定

問8 下線部㉔について、高度経済成長により、経済面においては人々の生活が豊かになったが、健康面では公害による深刻な被害が生みだされた。そのため、1967年に公害をなくす目的で制定された法令は何か、答えなさい。

【5】日本の政治と社会について、以下の各問いに答えなさい。

問1 下のグラフは、日本の家族類型別世帯数の推移をあらわしたものである。このグラフから読みとれることを、次のア～エの中から一つ選び、記号で答えなさい。



(「総務省統計データ」により作成)

- ア 「夫婦のみ」の全体に占める割合と世帯数は、1980年、2000年、2015年と常に減少している。
- イ 核家族世帯の全体に占める割合と世帯数は、1980年、2000年、2015年と常に増加している。
- ウ 2015年の「父(母)のみと子ども」の世帯数は、2000年より減少している。
- エ 2000年と2015年とを比べたとき、世帯数の割合が最も増加しているのは「単独世帯」である。

問2 次の国会に関する文章を読み、以下の各問いに答えなさい。

㉑日本国憲法第41条では、「㉒国会は、国権の最高機関であって、国の唯一の(A)機関である」とされている。法律の制定は国会の最も重要な仕事の一つであり、国会のほかに、どのような機関も法律をつくることはできない。国会では多様な意見を反映し、また慎重に審議をおこなうために、㉓衆議院と参議院からなる二院制がとられている。

- (1) 文中の(A)にあてはまる語句を答えなさい。
- (2) 下線部㉑について、日本国憲法には権力の集中を防ぐために、三権分立のしくみがとり入れられている。この三権分立を主張したフランスの思想家は誰か、答えなさい。
- (3) 下線部㉒について、国会の役割として誤っているものを、次のア～エの中から一つ選び、記号で答えなさい。
- ア 予算の議決
 - イ 弾劾裁判所の設置
 - ウ 内閣総理大臣の指名
 - エ 条約の締結
- (4) 下線部㉓について、次の表の空欄(X), (Y)にあてはまる数字を答えなさい。

衆議院		参議院
465人	議員定数	242人
(X)年	任期	6年
満25歳以上	被選挙権	満(Y)歳以上
あり	解散	なし

(2017年7月現在)

問3 2018年6月29日に「働き方改革関連法案」(働き方改革を推進するための関係法律の整備に関する法律案)が可決された。次の文章は、中学3年生の愛子さんが労働に関する法律や問題について調べた内容の一部である。これを読み、以下の各問いに答えなさい。

わが国では、労働者の権利を守るために④労働三法が定められている。労働三法の一つである労働組合法では、⑤労働組合をつくる権利や、労働時間・賃金などを経営者側と交渉する権利が具体的に定められている。また1986年には、雇用における男女の格差をなくすため、(A)が施行された。

企業はモノやサービスをつくるだけでなく、労働者の雇用を守り、働きやすい職場環境を整えるという社会的責任がある。しかし、わが国では近年、長時間労働やストレスなどが原因のうつ病、過労死など、さまざまな労働災害が問題となっている。このような問題に対する取り組みとして、仕事と生活のバランスをとる(B)の実現がめざされている。

- (1) 文中の(A)にあてはまる法律名を答えなさい。
- (2) 文中の(B)にあてはまる語句をカタカナで答えなさい。
- (3) 下線部④について、労働三法のうち、労働関係の公正な調整、労働者と使用者(企業を経営する側)の対立の予防や解決を目的とする法律を何というか、答えなさい。
- (4) 下線部⑤について、労働組合をつくる権利は、労働基本権(労働三権)のうちのどれにあたるか、次のア～エの中から一つ選び、記号で答えなさい。
ア 団結権 イ 団体行動権 ウ 団体交渉権 エ 勤労権

2019年度 和歌山信愛高等学校
 入学試験 社会 解答用紙

受験番号

--

--

【1】

問1	(1)	ク	(2)	ユーロ
問2	産業の空洞化			
問3	世界の市場			
問4	(1)	ア	ウ	(2) 9月17日 午前7時
問5	(1)	ア	(2)	イ
問6	アメリカ合衆国			

【4】

問1	イ	
問2	板垣退助	
問3	エ	
問4	サラエボ事件	
問5	ア	
問6	ウ	
問7	ウ	
問8	公害対策基本法	

【2】

問1	(1)	ヒートアイランド現象		
	(2)	農業	近郊農業	
		理由	新鮮さを保ちながら，輸送コストをおさえられるから	
(3)	エ			
問2	過密			
問3	イ			

【5】

問1	エ				
問2	(1)	立法			
	(2)	モンテスキュー			
	(3)	エ			
	(4)	X	4	Y	30
問3	(1)	男女雇用機会均等法			
	(2)	ワークライフバランス			
	(3)	労働関係調整法			
	(4)	ア			

【3】

問1	空海（弘法大師）			
問2	イ			
問3	太閤検地（検地）			
問4	書院造（禅宗様）			
問5	ア			
問6	エ			
問7	踏絵（絵踏）			

【1】	【2】	【3】	【4】	【5】